

۱ - مطابق با سند تحول بنیادین آموزش و پرورش، باید‌ها و نبایدهایی که الزام است تمام اجزا و مؤلفه های نظام تعلیم و تربیت رسمی و عمومی، هماهنگ با آن‌ها بوده و همه سیاست‌گذاران و کارگزاران نظام ملتزم و پاینده به آن‌ها باشند چه نام دارد؟

- ۱ - بیانیه ارزش‌ها
- ۲ - بیانیه ماموریت
- ۳ - هدف‌های عملیاتی
- ۴ - راهبردهای کلان

گزینه صحیح این سوال گزینه ۱ می‌باشد

۲ - کدام مورد در خصوص تفاوت روخوانی و روانخوانی صحیح است؟

- ۱ - روخوانی شامل بخش خوانی و روان خوانی شامل شمرده خوانی است.
- ۲ - روخوانی شامل شمرده خوانی و روان خوانی شامل بخش خوانی است.
- ۳ - روخوانی مهارت دیداری و روان خوانی مهارت شنیداری است.
- ۴ - روخوانی مهارت شنیداری و روان خوانی مهارت دیداری است.

گزینه صحیح این سوال گزینه ۳ می‌باشد

۳ - چه زمانی از قرائت الگو (کتاب گویا / رمزینه سریع پاسخ) استفاده می‌شود؟

- ۱ - همزمان با آموزش روخوانی
- ۲ - بستگی به سلیقه معلم دارد.
- ۳ - قبل از آموزش روخوانی
- ۴ - پس از آموزش روخوانی

گزینه صحیح این سوال گزینه ۴ می‌باشد

۴ - کدام یک از راهبردهای کلان بیان شده در سند تحول بنیادین آموزش و پرورش، با تمامی هدف‌های کلان ذکر شده در این سند، مرتبط است؟

۱ - نهادینه کردن نگاه یکپارچه به فرایند تعلیم و تربیت با رویکرد تعالی بخش در کلیه مؤلفه های نظام تعلیم و تربیت رسمی و عمومی

۲ - گسترش و تعمیق فرهنگ پژوهش و ارزشیابی، خالقیت و نوآوری، نظریه پردازی و مستندسازی تجربیات علمی تربیتی بومی

۳ - استقرار نظام تعلیم و تربیت رسمی و عمومی بر اساس مبانی نظری و فلسفه تعلیم و تربیت اسلامی

۴ - بهره مندی هوشمندانه از فناوری نوین در نظام تعلیم و تربیت رسمی و عمومی مبتنی بر نظام معیار اسلامی

گزینه صحیح این سوال گزینه ۳ می باشد

۵ - مطابق با سند تحول بنیادین آموزش و پرورش، متناسب سازی حجم و محتوای کتب درسی و ساعات و روزهای آموزشی، با کدام مورد زیر باید صورت گیرد؟

۱ - امکانات و فضای آموزشی مدارس

۲ - توانمندی ها و ویژگی های دانش آموزان

۳ - نظرات مسئولین نظام آموزش و پرورش

۴ - بودجه و منابع مالی وزارت آموزش و پرورش

گزینه صحیح این سوال گزینه ۲ می باشد

۶ - در کلمه (نوحیها) به کدامیک از ویژگی های رسم الخط آموزشی (قرآن کم حرف) اشاره شده است؟

۱ - تمایز حروف ناخوانا

۲ - اکتفا به علائم ضروری

۳ - عدم تداخل و ترکیب حروف و حرکات

۴ - استفاده از رسم الاملای عربی

گزینه صحیح این سوال گزینه ۲ می باشد

۷ - طبق سند تحول بنیادین آموزش و پرورش، تقویت و گسترش مدارس غیردولتی با اصلاح و بازنگری قوانین و مقررات موجود، به عنوان راهکار برای کدام یک از هدف های عملیاتی ذکر شده است؟

- ۱ - ارتقای منزلت اجتماعی و جایگاه حرفه ای منابع انسانی با تأکید بر نقش الگویی و جایگاه معلم
- ۲ - ایجاد و متناسب ساز فضاهای تربیتی با ویژگی ها و نیازهای دانش آموزان و اقتضائات فرهنگ اسلامی ایرانی
- ۳ - افزایش نقش شوراهای آموزش و پرورش استان، مناطق و مدارس در تقویت فعالیت های تربیتی
- ۴ - جلب مشارکت ارکان سهیم و مؤثر بخش عمومی و غیر دولتی در تعلیم و تربیت رسمی و عمومی

گزینه صحیح این سوال گزینه ۴ می باشد

- ۸ - با توجه به جدول، اهداف نشانه های تحقق و سطوح عملکردی درس قرآن پایه چهارم ابتدایی عبارت زیر جزو کدام یک از سطوح چهارگانه عملکردی قرار می گیرد؟

(بیشتر آیات و عبارات قرآنی کتاب درسی و برخی از آیات مصحف آموزشی را صحیح و شمرده میخواند)

- ۱ - قابل قبول
- ۲ - نیازمند آموزش
- ۳ - خوب
- ۴ - خیلی خوب

گزینه صحیح این سوال گزینه ۳ می باشد

- ۹ - مطابق با سند تحول بنیادین آموزش و پرورش، به ترتیب، برای (گذر از دوره تحصیلی)، (ارتقای پایه های تحصیلی دوره ابتدایی) و (ارتقای پایه های تحصیلی در سایر دوره های تحصیلی)، کدام نظام ارزشیابی باید طراحی و اجرا شود؟

- ۱ - نتیجه محور - فرایند محور - تلفیقی
- ۲ - تلفیقی - نتیجه محور - فرایند محور
- ۳ - فرایند محور - تلفیقی - نتیجه محور
- ۴ - تلفیقی - فرایند محور - نتیجه محور

۱۰- کدام مورد در خصوص پیام قرآنی صحیح است؟

- ۱ - هدف از پیام قرآنی کسب مهارت تدبر در قرآن کریم است.
- ۲ - هدف از پیام قرآنی حفظ متن پیام قرآنی است
- ۳ - معلم نتیجه مدنظر خود را با ذکر مثال و مصادیق برای دانش آموزان بیان میکند
- ۴ - معلم درباره مفهوم پیام قرآنی و مصادیق آن برای دانش آموزان صحبت میکند.

گزینه صحیح این سوال گزینه ۱ می باشد

۱۱- مطابق با سند تحول بنیادین آموزش و پرورش، کدام نهاد موظف است با تربیت، به کارگیری و سازماندهی نیروهای توانمند و واجد شرایط، تامین و بسیج امکانات و منابع، تدوین برنامه های اجرایی کوتاه مدت و میان مدت در سطح ملی و استانی و ... اقدامات الزم برای تحقق مفاد سند مذکور را معمول دارد؟

www.stekhdami.com
۰۹۱۷۶۸۵۵۲۳۰

ب) ج) د)

- ۱ - شورای عالی انقلاب فرهنگی
- ۲ - تمامی دستگاه ها و نهادهای دولتی
- ۳ - شورای عالی آموزش و پرورش
- ۴ - وزارت آموزش و پرورش

گزینه صحیح این سوال گزینه ۴ می باشد

۱۲- کدام مورد به اشتراک دو برنامه درسی قرآن و هدیه های آسمان اشاره دارد؟

- ۱ - روش آموزش پیمانده ای از شیوه های مشترک تدریس قرآن و هدیه های آسمان است.
- ۲ - تدریس دو درس قرآن و هدیه های آسمان توسط آموزگار پایه الزامی نیست.
- ۳ - حفظ پیام قرآنی و احادیث به منظور تثبیت یادگیر از اهداف مشترک دو درس قرآن و هدیه های آسمان است.

۴ - قرائت نماز در درس قرآن و احکام نماز در درس هدیه های آسمان آموزش داده می شود

گزینه صحیح این سوال گزینه ۴ می باشد

۱۳ - با توجه به نحوه اشاره صحیح در، روخوانی در دو آیه شریفه (والضحی و الرحمن) در مجموع چند اشاره ثابت و چند اشاره متحرک وجود دارد؟

۱ - چهار اشاره ثابت و سه اشاره متحرک

۲ - سه اشاره ثابت و سه اشاره متحرک

۳ - چهار اشاره ثابت و چهار اشاره متحرک

۴ - سه اشاره ثابت و چهار اشاره متحرک

گزینه صحیح این سوال گزینه ۴ می باشد

۱۴ - نحوه ترمیم و بروزرسانی سند تحول بنیادین آموزش و پرورش به کدام صورت زیر است؟

۱ - در بازه های زمانی ۳ ساله از تاریخ اجرای سند، پس از تصویب شورای عالی آموزش و پرورش به تصویب نهایی وزارت آموزش و پرورش

۲ - در بازه های زمانی ۵ ساله از تاریخ تصویب سند، پس از تصویب شورای عالی آموزش و پرورش به تصویب نهایی شورای عالی انقلاب فرهنگی

۳ - در بازه های زمانی ۳ ساله از تاریخ تصویب سند، پس از تصویب وزارت آموزش و پرورش به تصویب نهایی هیئت وزیران

۴ - در بازه های زمانی ۵ ساله از تاریخ اجرای سند، پس از تصویب شورای عالی انقلاب فرهنگی به تصویب نهایی هیئت وزیران

گزینه صحیح این سوال گزینه ۲ می باشد

۱۵ - مطابق با سیاست های کلی ایجاد تحول در نظام آموزش و پرورش، برای ایجاد تحول در نظام برنامه ریزی آموزشی و درسی، بر رعایت کدام رویکرد تأکید شده است؟

۱ - اقتصادی و اجتماعی

۲ - سیاسی و اجتماعی

۳ - فرهنگی و تربیتی

۴ - فرهنگی و سیاسی

گزینه صحیح این سوال گزینه ۳ می باشد

۱۶- کسب کدام توانایی زیر از اهداف مشترک دو درس قرآن و هدیه های آسمان است؟

۱ - صحیح خوانی پیام قرآنی

۲ - تفکر در پیام های قرآنی

۳ - حفظ پیام قرآنی

۴ - ترجمه پیام قرآنی

گزینه صحیح این سوال گزینه ۲ می باشد

۱۷- مطابق با سیاست های کلی ایجاد تحول در نظام آموزش و پرورش، به منظور شناسایی نقاط قوت و ضعف و پرورش استعدادها و خلاقیت دانش آموزان بر کدام مورد تأکید شده است؟

۱ - تحول بنیادین شیوه های ارزشیابی دانش آموزان

۲ - تقویت آموزش های فنی و حرفه ای

۳ - تقویت آداب و مهارت های زندگی و توانایی حل مسئله

۴ - توسعه فرهنگ و معارف اسلامی و یادگیری قرآن

گزینه صحیح این سوال گزینه ۱ می باشد

۱۸- در ارزشیابی از پیشرفت تحصیلی کدام مورد در دو درس قرآن و هدیه های آسمان مشترک است می خواند؟

- ۱ - احادیث درس را از حفظ میخواند.
- ۲ - اشعار درس را از حفظ میخواند.
- ۳ - پیام قرآنی را میخواند و در مورد آن با ذکر نمونه توضیح میدهد.
- ۴ - داستان درس را با زبان کودکانه تعریف می کند.

گزینه صحیح این سوال گزینه ۳ می باشد.

۱۹- مطابق با آیین نامه اجرایی مدارس، کدام مورد در خصوص چرخش های تحول آفرین مدرسه صحیح است؟

- ۱ - از پذیرش تنوع و کثرت در تربیت دانش آموزان به یکسان نگری در تربیت آن ها
- ۲ - از سازگاری با شرایط محیطی به هویت یابی و مقاومت در برابر شرایط نامساعد و تغییر آن ها
- ۳ - از رفاقت های جمعی دانش آموزان به رقابت های فردی میان آن ها
- ۴ - از نهادی فرهنگی اجتماعی و مولد سرمایه انسانی به نهادی آموزشی

گزینه صحیح این سوال گزینه ۲ می باشد.

۲۰- مطابق با آیین نامه اجرایی مدارس، از میان ارکان مدرسه، از کدام مورد به عنوان مهم ترین رکن نام برده شده است؟

- ۱ - شورای مدرسه
- ۲ - مدیر مدرسه
- ۳ - شورای دانش آموزی
- ۴ - شورای معلمان

۲۱- در کدام یک از درس های کتاب هدیه های آسمان پایه سوم تدریس پیمانته ای ممکن نیست؟

- ۱ - غروب یک روز بهاری موضوع خدانشناسی
- ۲ - انتخاب پروانه (موضوع آداب و اخلاق)
- ۳ - در کاخ نمرود موضوع پیامبری
- ۴ - روز دهم (موضوع مراسم اسلامی)

گزینه صحیح این سوال گزینه ۱ می باشد

۲۲- کدام مورد، طبق مقررات دانش آموزی مندرج در آیین نامه اجرایی مدارس صحیح است؟

- ۱ - حداکثر سن ثبت نام در پایه اول ابتدایی در مناطق شهر ۹ سال تمام و در مناطق روستایی و عشایر ۱۱ سال تمام است
- ۲ - حداقل سن ثبت نام در پایه اول دبستان ۷ سال تمام است
- ۳ - حداکثر سن ثبت نام در دوره اول متوسطه در مناطق شهر ۱۴ و در مناطق روستایی و عشایر ۱۶ سال تمام خواهد بود
- ۴ - حداقل سن ثبت نام دانش آموزان ایرانی در مدارس خارج از کشور، تابع مقررات نظام آموزشی همان کشور خواهد بود

گزینه صحیح این سوال گزینه ۴ می باشد

۲۳- اگر به عنوان یک معلم بخواهید مهم ترین بخش فرایند یادگیر را طراحی کنید باید به کدام سوال زیر پاسخ دهید؟

- ۱ - روش یاددهی یادگیری مؤثر کدام است؟
- ۲ - روش ارزشیابی از آموزش چگونه باید باشد؟

۳ - اهداف آموزش چیست؟

۴ - روش آموزش چگونه باید باشد؟

گزینه صحیح این سوال گزینه ۲ می باشد

۲۴ - مطابق با تبصره ۱ ماده ۵۱ آیین نامه اجرایی مدارس، تشخیص موجه یا غیرموجه بودن غیبت دانش آموزان به ترتیب با مدت (کمتر از یک ماه) و (بیشتر از یک ماه) با کدام مورد است؟

۱ - معاونت آموزش ابتدایی شهرستان - اداره لک آموزش و پرورش استان

۲ - اداره لک آموزش و پرورش شهرستان - اداره لک آموزش و پرورش منطقه

۳ - مدیر مدرسه - شورای مدرسه

۴ - شور ای مدرسه - معاونت آموزش ابتدایی

گزینه صحیح این سوال گزینه ۳ می باشد

www.stekhdami.com
۰۹۱۷۶۸۵۵۲۳۰

۲۵ - پرداختن به کدام یک از سرفصل های زیر در کتاب های درسی هدیه های آسمان به شکل تلفیقی است؟

۱ - شخصیت های اسلامی

۲ - اخلاق اسلامی

۳ - خداشناسی

۴ - خودشناسی

گزینه صحیح این سوال گزینه ۴ می باشد

۲۶ - مطابق با آیین نامه اجرایی مدارس، به ترتیب (مسئولیت برنامه ریزی و ارزشیابی پیشرفت تحصیلی تربیتی دانش آموزان) و (نظارت بر آن) بر عهده کدام مورد است؟

۱ - معلم - شورای مدرسه

۲ - مدیر مدرسه - شورای مدرسه

۳ - معلم - مدیر مدرسه

۴ - مدیر مدرسه - مدیر مدرسه

گزینه صحیح این سوال گزینه ۱ می باشد

۲۷ - هدف دشمنان ایران و اسلام از تبلیغ و ترویج شخصیت های مزدکی و مانوی مانند المقنع، بابک و مازیار در میان ایرانیان کدام است؟

- ۱ - ترویج احساسات مذهبی دیگری به جای اسلام
- ۲ - دفاع از ملیت و قومیت ایرانی با سابقه ۲۵ قرن
- ۳ - تبدیل احساسات اسلامی به احساسات ضد اسلامی
- ۴ - حذف ۱۵ قرن روشن از اذهان ملت ایران

گزینه صحیح این سوال گزینه ۳ می باشد

۲۸ - مطابق با آیین نامه اجرایی مدارس، بر عهده کدام مورد است؟
www.stekhdami.com
۰۹۱۷۶۸۰۰۲۴

- ۱ - شورای مدرسه با همکاری شورای دانش آموزی
- ۲ - شورای مدرسه با همکاری انجمن اولیا و مربیان
- ۳ - شورای مدرسه
- ۴ - مدیر مدرسه با مشارکت کارکنان

گزینه صحیح این سوال گزینه ۴ می باشد

۲۹ - هدف کدام یک از فعالیت های واحدهای درسی کتاب هدیه های آسمان (تثبیت هویت دینی) است؟

- ۱ - دوستت دارم
- ۲ - کامل کنید
- ۳ - با خانواده

۳۰- عده ای میگویند «شکوفایی فرهنگی و هنری ایران پس از ورود اسلام، عکس العمل جامعه برای جبران سرخوردگی و شکست نظامی است.» کدام مورد زیر، به این شبهه پاسخ می دهد؟

- ۱ - استمرار فعالیت های ایرانیان به مدت ۱۴ قرن نیاز به انگیزه عاطفی دارد.
- ۲ - ایرانیان پس از شکست مروج و مبلغ اسلام در میان ملت های دیگر بوده اند.
- ۳ - در مناطقی که شکست سنگین تر بوده، حجم و کیفیت فعالیت ها و خدمات بیشتر است.
- ۴ - سابقه خدمات متقابل اسلام و ایرانیان به قبل از شکست های نظامی میرسد.

گزینه صحیح این سوال گزینه ۴ می باشد

۳۱- کدام یک از ملاک های سازماندهی محتوا، بر اهمیت گسترش و غنی سازی محتوای آموزشی از نظر وسعت و عمق تأکید دارد؟

- ۱ - وحدت
- ۲ - توالی
- ۳ - ترکیب
- ۴ - مداومت

گزینه صحیح این سوال گزینه ۲ می باشد

۳۲- در طراحی اهداف برنامه درسی دینی دوره ابتدایی، آگاهی از کدام موضوع در خصوص پیامبری لازم است؟

- ۱ - عصمت پیامبران
- ۲ - صفات پیامبران
- ۳ - چگونگی وحی به پیامبران
- ۴ - مفهوم معجزه و نمونه های آن

گزینه صحیح این سوال گزینه ۲ می باشد

۳۳- هدف زیر، در کدام یک از سطوح حیطة شناختی بلوم قرار می گیرد؟

(دانش آموز بتواند با ذکر دلایل و شواهد، درباره اهمیت زبان فارسی قضاوت کند)

- ۱ - ارزشیابی
- ۲ - ترکیب
- ۳ - کاربرد
- ۴ - تجزیه و تحلیل

www.stekhdami.com
۰۹۱۷۶۸۵۵۲۳

گزینه صحیح این سوال گزینه ۱ می باشد

۳۴- تألیف کتاب فصوص الحکم، پیشتازی در ریاضیات، موسیقی و آرای سیاسی درباره

حکومت، از ویژگی

های کدام دانشمند مسلمان ایرانی است

- ۱ - کندی
- ۲ - فارابی
- ۳ - رازی
- ۴ - ابن سینا

گزینه صحیح این سوال گزینه ۲ می باشد

۳۵- کدام مورد در خصوص آیات قرآن کریم بخش (بیندیشیم) کتاب های هدیه آسمانی،

صحیح نیست؟

- ۱ - ابزار برای توضیح بیشتر موضوع درس توسط معلم بر مبنای قرآن است.

- ۲ - ابزار برای جمع بندی و نتیجه گیری مفاهیم درس از زبان قرآن است.
- ۳ - ابزاری برای گفت وگویی دانش آموزان بر مبنای قرآن و متمرکز بر هدف درس است.
- ۴ - وسیله ای برای درک تدریجی از ضرورت دریافت دینی از منابع معتبر است

گزینه صحیح این سوال گزینه ۱ می باشد

۳۶- در خصوص هدف آموزشی زیر، کدام مورد صحیح است؟

(دانش آموز در درس علوم تجربی، با مبحث شکست نور آشنا شود)

- ۱ - هدف رفتار است، ولی سطح اجرای دقیق آن، تعیین نشده است
- ۲ - هدف رفتار است، ولی موقعیتی که رفتار باید در آن مشاهده شود، مشخص نشده است
- ۳ - هدف رفتاری نیست
- ۴ - هدف رفتار کامل است.

گزینه صحیح این سوال گزینه ۳ می باشد

www.stekhdami.com

۰۹۱۷۶۸۵۵۲۳۰

۳۷- به کار بردن ابزارها و ساختن اشکال و بازسازی ذهنی ساختارها به یادگیر دانش آموزان با کدام سبک یادگیری کمک میکند؟

- ۱ - کلامی
- ۲ - ذهن ورزی
- ۳ - دست ورزی
- ۴ - تصویری

گزینه صحیح این سوال گزینه ۳ می باشد

۳۸- دانش آموز که مردود شدن خود را به نمرات پایین داده شده توسط معلم از روی سوگیری نسبت می دهد، دارای کدام منبع اسناد است؟

۱ - بیرونی و غیرقابل کنترل

۲ - بیرونی و قابل کنترل

۳ - درونی و غیرقابل کنترل

۴ - درونی و قابل کنترل

گزینه صحیح این سوال گزینه ۱ می باشد

۳۹- کدام هدف زیر، در حیطه دانش قرار ندارد؟

۱ - رسیدن به نگرش مثبت به ریاضی

۲ - درک مفهوم عدد و نمایش های مختلف اعداد

۳ - آشنایی با مفاهیم اساسی هندسه

۴ - توانایی بررسی الگوها و روابط

گزینه صحیح این سوال گزینه ۱ می باشد

۴۰- کدام مورد زیر دلیل نادرستی برای آوردن مربع شگفت انگیز (سودوکو) در کتاب ریاضی اول دبستان است؟

۱ - در حل آن ها راهبردهای حل مسئله به کار گرفته می شود.

۲ - حل این مربع ها مانند سایر مفاهیم اصلی ریاضی، مهم است.

۳ - به توسعه مهارت استدلال کودکان کمک میکند.

۴ - فرصتی برای خواندن و نوشتن عددها فراهم میکند

گزینه صحیح این سوال گزینه ۱ می باشد

۴۱- معلم برای برنامه ریزی، آموزشی باید موارد مختلفی را مدنظر قرار دهد. کدام یک جزو این موارد نیست؟

۱ - نیاز و توان دانش آموزان را مورد توجه قرار دهد.

۲ - تک تک تمرین های کتاب درسی را برای دانش آموزان حل کند.

۳ - هدف های کتاب درسی را پوشش دهد.

۴ - امکانات موجود را بشناسد و استفاده کند.

گزینه صحیح این سوال گزینه ۲ می باشد

۴۲- کدام یک از موارد زیر صحیح است؟

- ۱ - ارسال پیام های غیرکلامی، معمولا غیرارادی است.
- ۲ - پیچیدگی ارتباط غیرکلامی، کمتر از کلامی است.
- ۳ - پیام های کلامی برعکس پیام های غیرکلامی، معمولا رقمی هستند.
- ۴ - پیام های غیرکلامی، معمول صریح و روشن هستند ولی نسبت به پیام های کلامی، کمتر قابل اعتمادند.

۱ - فقط ۱

۲ - ۱ و ۳

۳ - ۱ و ۲ و ۳ و ۴

۴ - ۱ و ۳ و ۴

گزینه صحیح این سوال گزینه ۲ می باشد

۴۳- کدام مورد زیر به ادعای «مسلمان شدن ایرانیان با تحمیل و شمشیر» پاسخ می دهد؟

- ۱ - اندکی از خاندان ها و شهروندان ایرانی در مناطق فتح شده تا قرن چهارم اسلام را پذیرفتند.
- ۲ - تنها اولین گروه ایرانیان پس از حمله اعراب به ایران و با اعمال زور و اجبار، مسلمان شدند.
- ۳ - ایرانیان پس از استقلال نخواستند و نتوانستند آیین و رسوم کهن خود را احیا کنند.
- ۴ - در تاریخ هرچه استقلال سیاسی ایرانیان بیشتر شده، اقبال آنها به اسلام افزایش یافته است.

گزینه صحیح این سوال گزینه ۴ می باشد

۴۴- آیا در کتاب ریاضی اول دبستان کار با انگشتان دست توصیه شده است؟ به کدام

دلیل؟

- ۱ - خیر - همیشه در دسترس است و کودک را وابسته می کند.

۲ - بلی - می توان با انگشتان به ترتیب شمرد.

۳ - بلی - وسیله ای ساختارمند برای درک عددهای ۵ تا ۱۰ به صورت ترکیبی هستند.

۴ - بلی - وسیله ای ساختارمند برای درک عددهای ۵ تا ۱۰ به صورت ترکیبی هستند.

گزینه صحیح این سوال گزینه ۳ می باشد.

۴۵ - رفتار کدام دانش آموز زیر، جزو (رفتارهای نامطلوب ضعیف) طبقه بندی می شود؟

۱ - سامان دانش آموز پایه ششم، در حین تدریس معلم، مداد خود را روی میز می کوبد و صدا در می آورد

۲ - رضا دانش آموز پایه دوم، بدون دلیل در کلاس شروع به خندیدن نموده و حواس بقیه را پرت میکند

۳ - محمد دانش آموز پایه سوم، با همکلاسی های خود تعامل برقرار نمی کند

۴ - احسان دانش آموز پایه چهارم، در کلاس همکلاسی خود را قلقلک میدهد.

گزینه صحیح این سوال گزینه ۳ می باشد.

۴۶ - کدام مورد از اهداف آموزش ریاضی در دوره دبستان نیست؟

۱ - برقراری ارتباط بین ریاضی و زندگی روزمره

۲ - برقراری ارتباط میان نمایش های مختلف ریاضی و تعبیر و تفسیر آن ها

۳ - رشد مهارت های تفکر

۴ - پرورش نخبه ها و علاقه مندان به ریاضی

گزینه صحیح این سوال گزینه ۴ می باشد.

۴۷ - در کدام یک از سبک های یادگیری زیر، دانش آموزان تعامل بیشتری نشان می دهند

که هر کار یا تکلیفی را که شروع می کنند تکمیل کنند و به پایان برسانند؟

الف) ب) ج) د)

۱ - ادراک گرا

۲ - احساسگرا

۳ - برونگرا

۴ - قضاوت گرا

گزینه صحیح این سوال گزینه ۴ می باشد

۴۸- از دیدگاه استاد مطهری تعبیر «دو قرن سکوت»، برای سال های آغازین ورود اسلام به

ایران، با چه

شرایطی قابل استفاده است؟

۱ - در مورد طبقه حاکم به جاست، اما در مورد توده مردم و نخبگان علمی نابجاست.

۲ - در مورد طبقه حاکم و همچنین در مورد توده مردم و نخبگان علمی به جاست.

۳ - در مورد طبقه حاکم و همچنین در مورد توده مردم و نخبگان علمی نابجاست.

۴ - در مورد طبقه حاکم نابجاست، اما در مورد توده مردم و نخبگان علمی به جاست.

گزینه صحیح این سوال گزینه ۱ می باشد

۴۹- کدام یک از صاحب نظران زیر، بر اهمیت تفکر شهودی تأکید کرده است؟

۱ - تابا

۲ - برونر

۳ - بندورا

۴ - اسکینر

گزینه صحیح این سوال گزینه ۲ می باشد

۵۰- در خصوص رویکرد برنامه درسی ریاضی کدام یک از موارد زیر صحیح است؟

(۱) برخی از دانش آموزان توانایی کسب و کشف معارف بشری را دارند.

۲) توجه و تلاش برای رشد مهارت های تفکر دانش آموزان نیازی اساسی است.
۳) رسالت آموزش و پرورش شکوفا کردن استعداد های دانش آموزان از طریق ایجاد فرصت مناسب است.

۱ - فقط ۲

۲ - ۱ و ۲ و ۳

۳ - ۱ و ۳

۴ - ۳ و ۴

گزینه صحیح این سوال گزینه ۴ می باشد

۵۱- سرنوشت دانشگاه جندی شاپور در تمدن اسلامی، در کدام مورد بیان شده است؟

- ۱ - در ابتدای فتح ایران توسط سپاه مسلمین، تخریب شد.
- ۲ - پس از اسلام آوردن ایرانیان، به مرکز علوم اسلامی بدل شد.
- ۳ - تا قرون سوم و چهارم هجری به حیات علمی خود ادامه داد.
- ۴ - به دلیل کشتار اساتید و دانشجویان آن در جنگ ها از بین رفت.

گزینه صحیح این سوال گزینه ۳ می باشد

۵۲- کدام مورد در خصوص انواع الگوهای تدریس صحیح است؟

- ۱ - استفاده از الگوی یادیارها در دانش آموزان دوره ابتدایی منجر به یادگیر طوطی وار و سطحی می شود زیرا این الگو تنها به پایین ترین سطح اطلاعات میپردازد.
- ۲ - کاربرد الگوی پیش سازماندهنده، زمانی مناسب است که برای دانش آموزان سنین بالا و به تنهایی و مستقل از سایر الگوهای تدریس، مورد استفاده قرار گیرد
- ۳ - الگوهای تدریس خانواده فردی (انفرادی)، برای هدایت دانش آموزان در تعریف مسائل تدوین شده است تا بتوانند با دیدگاه های مختلف مسائل را حل کنند، با هم در اطلاعات، نظرات و مهارت ها چیره شوند و همزمان به رشد شایستگی اجتماعی نائل آیند

۴ - با کمک الگوهای تدریس خانواده سیستم رفتاری، می توان دامنه وسیعی از مهارت های اساسی تا مطالب بسیار پیچیده رشته های علمی را به یادگیرندگان سنین مختلف آموزش داد.

گزینه صحیح این سوال گزینه ۱ می باشد

۵۳- کدام موارد زیر جزو اهداف فرایندی درس ریاضی هستند؟

(۱) استدلال و اثبات

(۲) نمایش های ریاضی

(۳) برقراری اتصال میان مفاهیم

(۴) مفاهیم عددی و محاسبات عددی

۱ - ۲ و ۳

۲ - ۱ و ۲ و ۳ و ۴

۳ - ۱ و ۴

۴ - ۱ و ۲ و ۳

گزینه صحیح این سوال گزینه ۴ می باشد

۵۴- در کدام یک از مراحل الگوی دریافت مفهوم، دانش آموزان در خصوص نقش فرضیه ها و نمونها و نوع و تعداد فرضیه ها به بحث می پردازند؟

۱ - تحلیل راهبردهای تفکر

۲ - آزمون دستیابی به مفهوم

۳ - شناسایی مفهوم

۴ - ارائه مثال ها

گزینه صحیح این سوال گزینه ۱ می باشد

۵۵ - با وجود علمی بودن روحیه ملت ایران، کدام مورد زیر، نشان های از وجود روحیه ضد علمی در حکومت ساسانی بوده است؟

- ۱ - بی توجهی به تکریم عالمان و جایگاه نامناسب معلمان در جامعه
- ۲ - گسترش علم و فرهنگ و هنر در ایران، پس از انقراض حکومت ساسانی
- ۳ - نبود آثار علمی شاخص در دوران ساسانی، با وجود اهتمام ایرانیان به علم
- ۴ - تمرکز مراکز علمی در نقاط دورتر از نفوذ فرهنگی حکومت، مانند جنوب غرب ایران

گزینه صحیح این سوال گزینه ۴ می باشد.

۵۶ - قلب الگوی تدریس آموزش مستقیم، کدام است؟

- ۱ - ارائه مطالب
- ۲ - هدفگذاری
- ۳ - فعالیت های تمرینی
- ۴ - فناوری اطلاعات

گزینه صحیح این سوال گزینه ۲ می باشد.

۵۷ - در آرای کدام حکیم ایرانی، چهارچوب ریان فلسفی مشایی، فلسفه اشراقی، عرفان نظری و مفاهیم کالمی، با هم تلاقی پیدا کرده اند؟

- ۱ - ابن سینا
- ۲ - ملاصدرا
- ۳ - خواجه نصیر
- ۴ - شیخ بهایی

گزینه صحیح این سوال گزینه ۲ می باشد.

۵۸- در کدام یک از الگوهای تدریس، معلم نقش یک تسهیل گر را ایفا میکند که بیشتر به پرورش شاگردان و نه به کنترل توالی یادگیری توجه دارد؟

- ۱ - سخنرانی
- ۲ - غیرمستقیم
- ۳ - پرسش و پاسخ
- ۴ - پیش سازماندهنده

گزینه صحیح این سوال گزینه ۳ می باشد

۵۹- با توجه به عبارت رو به رو کدام یک از مسائل نوشته شده از نوع (باز پاسخ) است؟

$$+ ۸۰۰ < ۱۰۰۰$$

- ۱ - چند عدد طبیعی مختلف را می توان در جای خالی قرارداد تا عبارت درست باشد؟
- ۲ - برای درست بودن عبارت، چند عدد دو رقمی مختلف می تواند در جای خالی قرار بگیرد؟
- ۳ - عددی در جای خالی قرار دهید که عبارت درست باشد.
- ۴ - بزرگترین عدد طبیعی که می توان در جای خالی قرار داد چه عددی است؟

گزینه صحیح این سوال گزینه ۳ می باشد

۶۰- عقب ماندن علمی و فرهنگی ایرانیان در برخی دوره ها که موجب تحقیر تاریخ ایران

توسط مورخانی

مانند گوستاو لوبون شده است، نتیجه کدام عامل است؟

- ۱ - اختصاص نبوغ و درایت ایرانی به جنبه های نظامی و دوری ایشان از فرهنگ
- ۲ - وجود محدودیت های شدید تحصیلی و علمی برای همگان در دوره ساسانی
- ۳ - ایجاد جنگهای پی در پی میان پادشاهان ایران با پادشاهان روم و یونان
- ۴ - فراگیری علم و دانش میان رومیان در همه ادوار تاریخی

گزینه صحیح این سوال گزینه ۲ می باشد

۶۱- در خصوص رویکرد یادگیری الکترونیکی، کدام مورد صحیح نیست؟

- ۱ - مبتنی بر تالش و کوشش خود یادگیرنده است
- ۲ - با جدیدترین اطلاعات همراه است
- ۳ - می تواند مجموعه ای از روش های آموزشی را در برداشته باشد
- ۴ - نسبت به تفاوت های فردی یادگیرندگان بی توجه است

گزینه صحیح این سوال گزینه ۴ می باشد

۶۲- همدلی و احترام، از آثار مستقیم کدام یک از الگوهای تدریس است؟

- ۱ - شبیه سازی
- ۲ - بدیعه پردازی
- ۳ - پژوهش گروهی
- ۴ - ایفای نقش

گزینه صحیح این سوال گزینه ۴ می باشد

۶۳- به ترتیب فضیلت اجتماعی پیش از ورود اسلام به ایران بر کدام پایه استوار بود و ملاک فضیلت پس از اسلام کدام است؟

- ۱ - خون و مالکیت - علم و تقوا
- ۲ - طبقه و حرفه - علم و تقوا
- ۳ - طبقه و حرفه - سیادت و روحانیت
- ۴ - خون و مالکیت - سیادت و روحانیت

گزینه صحیح این سوال گزینه ۱ می باشد

۶۴- کدام مورد در خصوص الگوی تدریس کاوشگری، صحیح نیست؟

- ۱ - میان مدرسه و زندگی واقعی پیوند ایجاد میکند
- ۲ - تفکر منطقی را در یادگیرنده تقویت میکند
- ۳ - در استفاده از این روش، تمایز سنی میان یادگیرندگان موضوعیت دارد
- ۴ - روح همکار و تعامل میان یادگیرندگان را تقویت میکند

گزینه صحیح این سوال گزینه ۳ می باشد

۶۵- یکی از ثمرات فرهنگ اسلام در تاریخ ایران، هضم ساختن و اصلاح تمدن های مهاجم بوده است، به

ترتیب، این تغییر روش در مورد کدام یک از نوادگان چنگیز و تیمور قابل مشاهده است؟

- ۱ - امیرحسین بایقرا - رستم فرخزاد
- ۲ - محمد خدابنده - رستم فرخزاد
- ۳ - محمد خدابنده - بایسنقر
- ۴ - امیرحسین بایقرا - بایسنقر

گزینه صحیح این سوال گزینه ۳ می باشد

۶۶- اولین ترجمه مهم از زبان فارسی به عربی در تمدن اسلامی، مربوط به کدام قسمت بوده است؟

- ۱ - علوم کیمیا و کیمیاگری
- ۲ - نظامات اداری و دفاتر دولتی
- ۳ - فلسفه و علوم عقلی
- ۴ - نظامات بهداشتی و درمانی

گزینه صحیح این سوال گزینه ۲ می باشد

۶۷- ایرانیان، مؤسس کدام شاخه از علوم اسلامی در تمدن بزرگ اسلامی بوده اند؟

۱ - اصول الفقه

۲ - علم لغات

۳ - دستور زبان

۴ - علم الحديث

گزینه صحیح این سوال گزینه ۴ می باشد

۶۸- تفاوت بین (دانستن چگونه انجام دادن کاری) و (انجام دادن آن کار) ، به ترتیب بیانگر تفاوت بین کدام دو مورد زیر است؟

۱ - رفتار و عملکرد

۲ - عملکرد و تفکر

۳ - یادگیری و عملکرد

۴ - تفکر و یادگیری

گزینه صحیح این سوال گزینه ۳ می باشد

۶۹- تمدن اسلام و دین مقدس اسلام، توسط کدام گروه از حاکمان ایران به هندوستان برده شد؟

۱ - غزنویان

۲ - برمکیان

۳ - خوارزمشاهیان

۴ - عباسیان

گزینه صحیح این سوال گزینه ۱ می باشد

۷۰- ایرانیان در توسعه و پیشرفت کدام رشته از علوم و معارف اسلامی، سهم بیشتری نسبت به رشته های دیگر دارند؟

۱ - تفسیر

۲ - ادبیات

۳ - فقه

۴ - فلسفه

گزینه صحیح این سوال گزینه ۴ می باشد

۷۱- کدام مورد، به ترتیب، بیانگر وضعیت «کیفیت دسترسی به بهداشت و درمان» و «شاخص امید به زندگی» در سال های پس از انقلاب اسلامی ایران است؟

۱ - کاهش - کاهش

۲ - کاهش - افزایش

۳ - افزایش - افزایش

۴ - افزایش - کاهش

گزینه صحیح این سوال گزینه ۳ می باشد

۷۲- ایران در سال های از انقلاب اسلامی، از نظر میزان رشد کدام شاخص، به رتبه نخست جهان دست یافت؟

۱ - پیشرفت علمی

۲ - خطوط ریلی

۳ - بودجه نظامی

۴ - صنایع غذایی

گزینه صحیح این سوال گزینه ۱ می باشد

۷۳- در سایه توجه فرهنگ اسلامی به علم و گسترش آن، تعداد فارغ التحصیلان دانشگاهی پس از انقلاب اسلامی تا چه میزان رشد داشته است؟

۱ - ۲ برابر

۲ - ۵ برابر

۳ - ۱۰ برابر

-

-

گزینه صحیح این سوال گزینه ۳ می باشد

۷۴- طبق کدام یک از موارد زیر، از فعالیت هایی که کودکان دوست دارند انجام دهند، می توان به عنوان تقویت کننده برای فعالیت هایی که کمتر به آن ها می پردازند، استفاده کرد؟

۱ - تقویت کننده های واپسین

۲ - اصل پریماک

۳ - تقویت کننده های اجتماعی

۴ - تقویت کننده های نخستین

گزینه صحیح این سوال گزینه ۲ می باشد

۷۵- با گذشت بیش از چهل سال از انقلاب اسلامی، رتبه جهانی ایران در رشد «شاخص

توسعه انسانی» کدام است؟

۱ - چهارم

۲ - بیست و یکم

۳ - پانزدهم

۴ - اول

گزینه صحیح این سوال گزینه ۴ می باشد

۷۶- علی در محاسبه ۶۳۷×۵۲ به جای ۵۲ به اشتباه ۶۲ را وارد کرده است. او چگونه

میتواند حاصل به دست آمده را به حاصل درست، ۶۳۷×۵۲ تبدیل کند؟

۱ - ۶۳۷۰ تا از آن کم کند.

۲ - ۶۳۷۰ تا به آن اضافه کند.

۳ - ۱۰ تا از آن کم کند.

۴ - ۱۰ تا به آن اضافه کند.

گزینه صحیح این سوال گزینه ۱ می باشد.

۷۷ - علی در محاسبه $۶۳۷ * ۵۲$ به جای ۵۲ به اشتباه ۶۲ را وارد کرده است. او چگونه میتواند حاصل به دست آمده را به حاصل درست، $۵۲ * ۶۳۷$ تبدیل کند؟

۱ - ۶۳۷۰ تا از آن کم کند.

۲ - ۶۳۷۰ تا به آن اضافه کند.

۳ - ۱۰ تا از آن کم کند.

۴ - ۱۰ تا به آن اضافه کند.

گزینه صحیح این سوال گزینه ۱ می باشد.

۷۸ - بالا ترین رتبه علمی ایران در میان کشورهای جهان مربوط به کدام رشته علمی است؟

۱ - علوم بیوشیمی و زیست مولکولی

۲ - علوم ژنتیک و سلول های بنیادی

۳ - علوم فضایی و هوافضا

۴ - علوم داروسازی

گزینه صحیح این سوال گزینه ۲ می باشد.

۷۹ - با توجه به نظریه رشد شناختی پیاژه ، کدام موارد زیر صحیح است؟

۱ - هوش فعالیتی است که از شخص سر میزند و دائما در حال تغییر است .

۲ - انطباق یعنی اینکه فرد در موقعیتی تازه رفتاری انجام دهد که در موقعیت های گذشته انجام می داده است.

۳ - در مرحله پیش عملیاتی، کودکان به مفهوم بقا یا نگهداری دست پیدا می کنند.

۴ - کودکان در مرحله عملیات صوری، قادر به کار بستن تفکر عملی مبتنی بر روش فرضیه ای - قیاسی هستند.

۱ - ۱ و ۴

۲ - ۳ و ۴

۳ - ۱ و ۲

۴ - ۱ و ۳

گزینه صحیح این سوال گزینه ۱ می باشد

۸۰ - بنا بر نظر نئو پیائزه ای ها یا پیروان نظریه های خبرپردازی، رشد یا تحول در نتیجه کدام مورد رخ میدهد؟

۱ - افزایش توانایی پردازش اطلاعات

۲ - فرایند جذب و انطباق

۳ - تأثیرات محیط فرهنگی - اجتماعی

۴ - تغییرات حاصل از ساخت های ذهنی و طرحواره ها

گزینه صحیح این سوال گزینه ۱ می باشد

۸۱ - یکی از اهداف مهم آموزش عدد و واحدهای اندازه گیری داشتن درک و تصور درست از عددها و واحدها است. اگر یک میلیارد کاغذ معمولی (A_4) را روی هم بچینیم ارتفاع آن حدوداً چقدر می شود؟

۱ - ۱۰۰ متر

۲ - ۱۰۰ کیلومتر

۳ - ۱ متر

۸۲- طبق نظریه ویگوتسکی، کدام مورد در خصوص کارکردهای عالی ذهن، صحیح است؟

۱ - در سالهای آغاز عمر، به طور طبیعی وجود دارند

۲ - به کمک ابزارهای روانشناختی رخ میدهند

۳ - محض انسان نیستند

۴ - تحت کنترل انسان نیستند

گزینه صحیح این سوال گزینه ۲ می باشد

۸۳- تربیت رسمی و عمومی (در شکل فعلی آن) یکی از مظاهر مدرنیته است. کدام رویکرد

در مواجهه با آن،

تناسب بیشتری با راهبردهای کلان اسناد بالادستی تربیتی دارد؟

۱ - شریعت گرا

۲ - تمدن گرا

۳ - تجدد گرا

۴ - سنت گرا

گزینه صحیح این سوال گزینه ۲ می باشد

۸۴- عبارت زیر، به ترتیب، اشاره به کدام مفهوم دارد و مربوط به کدام نظریه یادگیری

است؟

(ابتدا معلم یا شخص دیگر که یادگیرنده را یاری می دهد، سهم عمدهای از مسئولیت را بر

عهده میگیرد اما به تدریج که یادگیری پیش می رود، مسئولیت به یادگیرنده واگذار می

شود)

۱ - ساخت شناختی - گشتالت

۲ - بازنمایی نمادی - رشد شناختی برونر

- ۳ - یادگیر اکتشافی - تحول شناختی پیاژه
۴ - تکیه گاه سازی - رشد شناختی ویگوتسکی

گزینه صحیح این سوال گزینه ۴ می باشد

۸۵ - بنابر کدام قاعده فقهی تدوین فلسفه تربیت رسمی و عمومی برای ایران ضرورت می یابد؟

- ۱ - ربوبیت
۲ - هدایت
۳ - نفی سیل
۴ - بیداری اسلامی

گزینه صحیح این سوال گزینه ۳ می باشد

۸۶ - بر اساس کدام اصل فلسفی روند های کلان تغییرات اجتماعی توسط نهاد تربیت رسمی و عمومی منجر به «انسجام اجتماعی» و «تمایز یافتگی» میشود؟

- ۱ - وحدت در کثرت
۲ - سنت گرایی تحولی
۳ - جامعه گرایی
۴ - علیت

گزینه صحیح این سوال گزینه ۱ می باشد

۸۷ - عبارت زیر، در توصیف و تمجید کدام یک از نظریه های یادگیری مطرح شده است؟

(این نظریه برای معلمان دارای اهمیت است، زیرا تبیین های مفیدی از چگونگی ایجاد پاسخ های عاطفی و نگرش های دانش آموزان در اختیار معلمان می گذارد)

- ۱ - شرطی سازی کلاسیک
۲ - شرطی سازی کنشگر

۳ - شناختی - اجتماعی

۴ - تحول شناختی

گزینه صحیح این سوال گزینه ۱ می باشد

۸۸ - کدام ویژگی زیر جزو ویژگی های عام تربیت رسمی و عمومی محسوب می شود؟

۱ - انعطاف

۲ - تحول آفرینی

۳ - دین مداری

۴ - سامان یافتگی

گزینه صحیح این سوال گزینه ۴ می باشد

۸۹ - بنا بر اعتقاد آروبل، مشمول کننده هایی که ناپایدار، مبهم یا کم ارتباط هستند یا آن دسته از مطالب یادگیری که قدرت تمیز چندانی ندارند یا به خوبی آموخته نشده اند، دچار کدام شمول میشوند؟

۱ - ارتباطی

۲ - همبستگی

۳ - اشتقاقی

۴ - زوالی

گزینه صحیح این سوال گزینه ۴ می باشد

۹۰ - «تنوع بخشی به فرصتهای تربیتی متناسب با استعدادهای مختلف متربیان»، در شمار

کدامیک از

اصول تربیت رسمی و عمومی است؟

۱ - عدالت در تربیت

۲ - تنوع و کثرت

۳ - رعایت استعداد های متربیان

۹۱- معلم پایه ششم، دانش آموزانی را که در کلاس نسبت به درس بی توجه هستند مورد سرزنش قرار می دهد همین موضوع باعث می شود دانش آموزان دیگر به درس توجه بیشتری نشان دهند این موضوع اشاره به کدام مفهوم دارد؟

۱ - تقویت منفی

۲ - نظم دهی

۳ - یادگیری نهادینه

۴ - تنبیه جانیشینی

گزینه صحیح این سوال گزینه ۴ می باشد

۹۲- کدام مورد از ویژگی های افراد دارای سبک انطباق یابنده است؟

۱ - بیشترین توانایی را در انجام کارها دارند


۲ - در توانایی تخیل، قوی هستند

۳ - در تولید اندیشه و دیدن امور از زوایای مختلف توانا هستند

۴ - اغلب در حل مسائل، از شهود استفاده نمی کنند

گزینه صحیح این سوال گزینه ۱ می باشد

۹۳- در شکل اول، دوم، سوم و چهارم زیر، یک الگو دیده می شود. می خواهیم پیدا کنیم شکل n ام از چند مربع کوچک ساخته شده است، چهار دانش آموز با فکرهای مختلف خود، به این سوال پاسخ داده اند. از کدام مورد نمی توان تعداد مربع های شکل n ام را پیدا کرد؟



شکل اول

شکل دوم

شکل سوم

شکل چهارم

$$1 - (n-1) + nn$$

$$2 - 1 - n^2$$

$$3 - (n-1) + (n+1)nn$$

$$4 - 1 + (n-1)2$$

گزینه صحیح این سوال گزینه ۳ می باشد

۹۴- کدام مورد در خصوص اصل حفظ و ارتقای آزادی در تربیت رسمی و عمومی، صحیح نیست؟

- ۱ - آزادی امری فطری و ذاتی است.
- ۲ - بهره گیری از آزادی امری یاد گرفتنی است
- ۳ - آزادی متربی به معنای «آزادی از» میباشد.
- ۴ - آزادی متربی به معنای «آزادی در» میباشد.

گزینه صحیح این سوال گزینه ۳ می باشد

۹۵- چند مورد از موارد زیر در خصوص حافظه و انواع آن صحیح است و آن موارد کدام اند؟

- ۱ - بزرگترین محدودیت حافظه کوتاه مدت، ماهیت غیرفعال آن است
- ۲ - حافظه واکنش های هیجانی، یکی از انواع حافظه های بلند مدت است
- ۳ - بیشتر آنچه در مدارس آموزش داده می شود، دانش بیانی است و در حافظه بیانی ذخیره می شود

۴ - حافظه بیانی برخلاف حافظه غیربیانی، وابسته به یادآوری فعال یادگیری های قبلی نیست

۱ - دو : (۲ و ۳)

۲ - دو : (۱ و ۲)

۳ - سه : (۲ و ۳ و ۴)

۴ - سه : (۱ و ۳ و ۴) $10 + 7 = 17$

گزینه صحیح این سوال گزینه ۱ می باشد

۹۶ - کدام یک از راهبردهای بسط و گسترش معنایی، ویژه تکالیف پیچیده است؟

۱ - کلمه کلید

۲ - تصویرسازی ذهنی

۳ - استفاده از واسطه ها

۴ - استفاده از اطلاعات آموخته شده برای حل کردن مسائل

گزینه صحیح این سوال گزینه ۴ می باشد

۹۷ - آموزگار در کلاس مسئله زیر را مطرح کرده است:


(در هر بسته شکلات، ۱۰ تا شکلات است، ۲ بسته شکلات کامل داشتیم. ۲ تا شکلات

خوردیم و حالا چند شکلات باقی مانده است؟)

در زیر پاسخ ۴ دانش آموز به مسئله فوق آورده شده است. چه تعداد از پاسخ های زیر قابل قبول است؟

$$۲۰ - ۳ = ۱۷ \quad ۳ + ۱۷ = ۲۰$$

$$۱۰ - ۳ = ۷$$



مانده ۱۷ تا مانده است.

است. است. است.

مانده ۱۷ تا

۱۷ تا مانده ۱۷ تا

پاسخ «ب»

پاسخ «الف»

پاسخ «ج»

پاسخ

۱ - ۳

۲ - ۴

۳ - ۱

۴ - ۲

گزینه صحیح این سوال گزینه ۱ می باشد

۹۸- کدام یک از موارد زیر جزو «اصل آینده نگری و پویایی در تربیت رسمی و عمومی» است؟

- ۱ - نظارت متقابل ارکان نظام تربیت رسمی و عمومی در جهت پشتیبانی از نظام
- ۲ - بومی سازی رویکردهای جدید جهانی در تربیت رسمی و عمومی
- ۳ - رعایت حقوق و تکریم متریبیان در عین مسئولیت پذیری آن ها
- ۴ - نگرش نظام مند در هدایت تحولات تربیتی

گزینه صحیح این سوال گزینه ۲ می باشد

۹۹- کدام یک از نمونه رفتارهای زیر، جزو هوش میان فردی در نظریه هوش هشتگانه

گاردنر قرار می گیرد؟

- ۱ - تجسم امور مختلف در ذهن
- ۲ - تشخیص مقاصد و امیال دیگران
- ۳ - حل کردن مسائل ریاضی به سرعت
- ۴ - حساسیت داشتن نسبت به کارکردهای مختلف زبان

گزینه صحیح این سوال گزینه ۲ می باشد

۱۰۰- تعریف زیر بیانگر کدام یک از روش های حل مسئله است؟

(شیوه تولید راه حل های متنوع و متفاوت برای یک مسئله در یک زمان معین است)

- ۱ - بارش مغزی
- ۲ - تحلیل وسیله - هدف
- ۳ - الگوریتم
- ۴ - استدلال قیاسی

گزینه صحیح این سوال گزینه ۱ می باشد

۱۰۱- عبارت زیر به کدام مورد اشاره دارد؟

«زمینه اجتماعی سامان یافته ای برای تحقق حیات طیبه است که امکان تجربه این نوع

زندگانی را برای همه

متربیان فراهم میآورد.»

- ۱ - جامعه صالح
- ۲ - خانواده صالح
- ۳ - مدرسه سالم
- ۴ - مدرسه صالح

گزینه صحیح این سوال گزینه ۴ می باشد

۱۰۲- تولید اندیشه ها و راه حل های متنوع و غیرمعمول برای یک مسئله، بیانگر کدام یک از ویژگی های تفکر واگرایی در نظریه گیلفورد است؟

- ۱ - تازگی
- ۲ - سیالی
- ۳ - انعطاف پذیری
- ۴ - پیچیدگی

گزینه صحیح این سوال گزینه ۳ می باشد

۱۰۳- کدام مورد زیر، جزو مصادیق اصل تحول مداوم در ساحت تربیت اعتقادی، اخلاق و عبادی نیست؟

- ۱ - حرکت از الزام بیرونی به التزام شخصی
- ۲ - توازن میان مربی محوری و متربی محوری
- ۳ - حرکت از اصلاح ظاهر به تحول باطن
- ۴ - حرکت از اصلاح فردی به اصلاح جمعی

گزینه صحیح این سوال گزینه ۲ می باشد

۱۰۴- کدام مورد، به معلم کمک می کند تا از مجموعه بزرگی از سوالات ممکن، نمونه ای را که به خوبی معرف محتوا و هدف های درس باشد، انتخاب کند؟

- ۱ - هدف های رفتاری
- ۲ - جدول مشخصات آزمون
- ۳ - آزمون عینی
- ۴ - آزمون تشریحی

گزینه صحیح این سوال گزینه ۲ می باشد

۱۰۵- مهمترین جهت گیری حاکم بر ساحت تربیت زیستی و بدنی کدام است؟

- ۱ - تعامل نفس و بدن
- ۲ - همگرایی
- ۳ - تعامل خانواده و رسانه
- ۴ - تعامل دین و اخلاق

گزینه صحیح این سوال گزینه ۱ می باشد

۱۰۶- تعریف زیر اشاره به کدام مورد دارد؟

(نوعی از ارزشیابی است که در طول فرایند یاددهی - یادگیری، به طور پیوسته و مداوم برای شناسایی و تقویت قوت ها و شناسایی و رفع ضعف ها، موانع و مشکلات یادگیری فراگیران صورت میگیرد)

- ۱ - ارزشیابی تراکمی
- ۲ - ارزشیابی تکوینی
- ۳ - ارزشیابی عینی
- ۴ - آزمون جاپایی

گزینه صحیح این سوال گزینه ۲ می باشد

۱۰۷ - «نشانه دانستن طبیعت» در ساحت تربیت هنری، بر کدام مطلب دلالت دارد؟

- ۱ - حفظ طبیعت برای آیندگان
- ۲ - شناخت خالق جهان و شکرگزاری از وی
- ۳ - استفاده صحیح از طبیعت
- ۴ - تأکید بر رمزگشایی و رمزگردانی طبیعت

گزینه صحیح این سوال گزینه ۴ می باشد

۱۰۸- در خصوص بازخورد و انواع آن کدام مورد صحیح است؟

- ۱ - ازخورد باید به نحوی داده شود که باعث شود دانش آموز خود را با بقیه مقایسه کند.
- ۲ - تنها منبع بازخورد به دانش آموزان معلم است

۳ - صحبت های شفاهی معلم در حین کار و فعالیت های یادگیری، در حیطه بازخورد غیررسمی قرار می گیرند

۴ - بازخورد کمی می تواند گزارش مشروح و روشنی درباره وضعیت دانش آموز به ذینفع ارائه دهد

گزینه صحیح این سوال گزینه ۳ می باشد

۱۰۹- در کدام نوع ارزشیابی، مهارت ها و دانش های پیش نیاز دانش آموزان، مورد ارزشیابی قرار می گیرند؟

۱ - تشخیصی

۲ - جاپایی

۳ - تکوینی

۴ - آمادگی	(د)
گزینه صحیح این سوال گزینه ۴ می باشد	صد

۱۱۰- کدام مورد از ویژگی های ارزشیابی توصیفی نیست ؟

۱ - افزایش بهداشت روانی محیط یاددهی و یادگیری

۲ - تغییر در مرجع تصمیم گیری در خصوص ارتقای دانش آموزان، از امتحانات پایانی به معلم و شورای مدرسه

۳ - توجه به ارزشیابی به مثابه هدف یادگیر

۴ - توجه به تغییر مقیاس سنجش از کمی به کیفی

گزینه صحیح این سوال گزینه ۳ می باشد

۱۱۱- در خصوص تربیت علمی و فناوری از منظر «تربیت اسلامی»، کدام مورد صحیح است؟

۱ - استفاده از تکنولوژی غربی صحیح نیست.

۲ - تکنولوژی حامل فرهنگ و ارزش ها نیست.

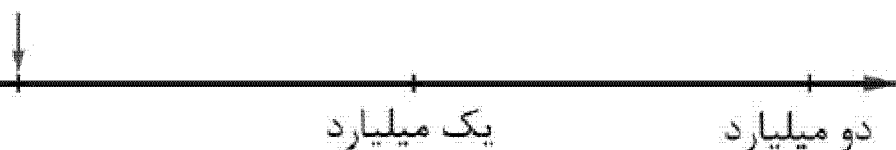
۳ - انسان مخدوم تکنولوژی است.

۴ - تکنولوژی مخدوم انسان است.

گزینه صحیح این سوال گزینه ۳ می باشد

۱۱۲- معلم سوال زیر را مطرح کرد. پاسخ چهار دانش آموز (الف - ب - ج - د) به این سوال، به این سوال، در زیر مشاهده می شود. به ترتیب، پاسخ کدام یک از دانش آموزان صحیح است و به کدام دلیل پاسخ بقیه دانش آموزان صحیح نیست؟

سوال: علامت روی محور، جای تقریبی کدام عدد را نشان می دهد؟



	«الف»	«ب»	دانش آموز
پاسخ	۱۰۰ میلیون	۱ میلیون	

- ۱ - الف - رابطه بین ارزش مکانی رقم ها را نمی دانند و درک درستی از اعداد ندارند
- ۲ - الف و ب - تقریب زدن اعداد را یاد نگرفته اند و درک درستی از بزرگی اعداد ندارند
- ۳ - ج و د - کار با محور را یاد نگرفته اند و درک درستی از اعداد ندارند
- ۴ - ب - کار با محور را یاد نگرفته اند و درک درستی از تعداد صفرها ندارند

گزینه صحیح این سوال گزینه ۱ می باشد

۱۱۳- بر اساس فلسفه تربیت رسمی و عمومی در جمهوری اسلامی ایران کدام مورد در خصوص نسبت

خانواده و حاکمیت در تربیت صحیح تر است؟

- ۱ - مسئولیت اصلی تربیت کودکان در نظام حقوقی ایران با والدین است و دولت تکمیل کننده است.
- ۲ - تربیت حق حاکمیت است و هدف گذاری، سیاست گذاری و برنامه ریزی تربیت رسمی با آن است.
- ۳ - رابطه حاکمیت و خانواده در تربیت رسمی و عمومی، رابطه عرضی و تعاملی با یکدیگر است.

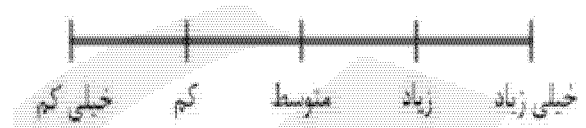
۴ - تربیت حق خانواده است و حاکمیت باید از خواسته های آنان در تربیت پیروی کند.

گزینه صحیح این سوال گزینه ۱ می باشد

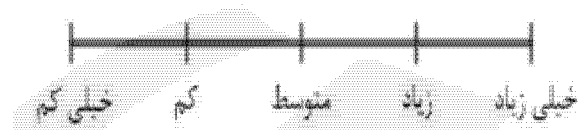
۱۱۴ - مثال زیر، بیانگر کدام یک از مقیاس های درجه بندی مورد استفاده در مشاهده، به عنوان یکی از روش های ارزشیابی است؟

راهنمایی: با گذاشتن علامت (*) در روی خط افقی مربوط به هر سوال، میزان تحقق رفتار مورد نظر در انجام فعالیت های کالسی را توسط دانش آموز تعیین کنید.

۱ - تا چه اندازه، این دانش آموز در فعالیت های کالسی شرکت می کند؟



۲ - تا چه اندازه، این دانش آموز با همکلاسی های خود در انجام فعالیت ها مشارکت می کند؟



۱ - نگاره ای

۲ - عددی

۳ - نگاره ای توصیفی

۴ - مشاهده ای رفتار

گزینه صحیح این سوال گزینه ۱ می باشد

۱۱۵ - دانش آموزی در انجام جمع چندرقمی، بدفهمی دارد و حاصل $۱۸ + ۷۵۶$ را ۸۱۲۶ و

حاصل $۲۵۲ + ۴۳$ را ۶۸۲ به دست آورده است. این دانش آموز حاصل $۵۷ + ۳۷۶$ را چه

عدد به دست آورده است؟

۱ - ۹۴۶

۲ - ۴۳۳

گزینه صحیح این سوال گزینه ۴ می باشد

۱۱۶- لزوم «تاریخ مندی» تربیت رسمی و عمومی به کدام مورد اشاره دارد؟

- ۱ - توجه به سنت و فرهنگ های پیشین
- ۲ - انفعال فرهنگی نسبت به دیگر فرهنگ ها
- ۳ - تناسب با مقتضیات زمان و مکان
- ۴ - تحلیل زمانی و مکانی وقایع تاریخی

گزینه صحیح این سوال گزینه ۳ می باشد

۱۱۷- معلم پس از انجام یک بازدید علمی از کارخانه تولید لبنیات، از دانش آموزان می خواهد گزارشی تهیه و به وی ارائه نمایند. آزمون مذکور، در حیطه کدام یک از انواع آزمون های عملکردی قرار میگیرد؟

- ۱ - کتبی عملکردی
- ۲ - انجام عملکرد در موقعیت های شبیه سازی شده
- ۳ - شناسایی
- ۴ - نمونه کار

گزینه صحیح این سوال گزینه ۴ می باشد

۱۱۸- «فرو کاستن یادگیری به یادسپاری محتوای مشخص و همچنین فرو کاستن مفهوم شایستگی به توسعه بعد شناختی متریان»، به کدام معضل اشاره دارد؟

- ۱ - تبعیض تربیتی
- ۲ - مدرک گرایی
- ۳ - از خودبیگانگی

۱۱۹- کدام مورد در خصوص روش های سنجش عاطفی ، صحیح است ؟

- ۱ - داده های به دست آمده از روش های سنجش عاطفی، عینی و قابل اعتماد هستند
- ۲ - نظارت شخصی، جزو روش های سنجش عاطفی است
- ۳ - داده های به دست آمده از مصاحبه را نمی توان برای سنجش عواطف، مورد استفاده قرار داد
- ۴ - با استفاده از روش یادداشت های روزانه، می توان به سنجش عواطف دانش آموز پرداخت

گزینه صحیح این سوال گزینه ۴ می باشد

۱۲۰- مهم ترین فایده استفاده از کارپوشه، کدام است؟

- ۱ - نظارت دانش آموزان بر جریان پیشرفت خود
- ۲ - خاصیت دوگانه سنجش و آموزش
- ۳ - آگاه شدن والدین از چگونگی پیشرفت فرزندانشان
- ۴ - ارائه دیدگاه واقعی تر از یادگیر و آموزش

گزینه صحیح این سوال گزینه ۲ می باشد

۱۲۱- عبارت زیر، مربوط به کدام مبانی تربیت رسمی و عمومی است؟

«تأمین رفاه هدف اصلی دولت اسلامی نیست، بلکه هدف اصلی زمینه سازی برای حیات طیبه است»

- ۱ - حقوقی
- ۲ - سیاسی
- ۳ - روانشناختی
- ۴ - جامعه شناختی

گزینه صحیح این سوال گزینه ۲ می باشد

۱۲۲- کدام توصیه در خصوص قواعد تهیه و اجرای پرسشنامه های سنجش عواطف صحیح است؟

- ۱ - از نوشتن جمله های منفی پرهیز کنند
- ۲ - تعداد سوالات تا حد امکان زیاد باشد
- ۳ - در هر جمله یا سوال پرسشنامه، بیشتر از یک اندیشه قرار دهید
- ۴ - جمله ای بنویسید که معرف واقعیت ها باشند نه عواطف

گزینه صحیح این سوال گزینه ۱ می باشد

۱۲۳- حدیث معروف پیامبر اکرم (ص) که میفرمایند: «دوستی وطن از ایمان است»، به کدام لایه از هویت اشاره دارد؟

- ۱ - دینی
- ۲ - انسانی
- ۳ - ملی
- ۴ - جنسیتی

گزینه صحیح این سوال گزینه ۳ می باشد

۱۲۴- در کدام شیوه سنجش، معلم می تواند در طول یک دوره زمانی، دیدگاهی طولی از رشد و الگوهای تغییر دانش آموزان به دست آورد؟

- ۱ - تکوینی
- ۲ - نهان یابی
- ۳ - واقعه نگاری
- ۴ - موقعیتی

گزینه صحیح این سوال گزینه ۳ می باشد

۱۲۵- در روش های سنجش مستقیم، رفتار به طور بی واسطه و مستقیم، مورد سنجش قرار می گیرد. کدام یک از موارد زیر، جزو روش های سنجش رفتاری نیست؟

- ۱ - سنجش نهان یابی
- ۲ - اندازه گیری عملکرد موقعیتی
- ۳ - ایفای نقش
- ۴ - کارپوشه


گزینه صحیح این سوال گزینه ۴ می باشد.

۱۲۶- در سنجش موقعیتی، کدام مورد اصلی ترین ابزار اندازه گیری است؟

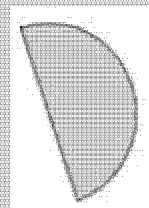
- ۱ - مصاحبه
- ۲ - مشاهده
- ۳ - مقیاس درجه بندی
- ۴ - واقعه نگاری

گزینه صحیح این سوال گزینه ۲ می باشد.


۱۲۷- در شب هفتم ماه قمری، ماه به کدام شکل در آسمان دیده می شود؟



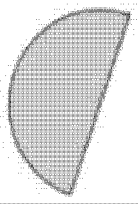
۱ -



۲ -



- ۳



- ۴

گزینه صحیح این سوال گزینه ۲ می باشد.

۱۲۸- از منظر فلسفه تربیت جمهوری اسلامی ایران، کدام یک از واژگان کلیدی زیر در

تعریف تربیت دخیل نیست؟

۱ - فرآیند تعاملی

۲ - به روز و کارآمد

۳ - اختیاری و آگاهانه

۴ - زمینه ساز تکوین هویت

گزینه صحیح این سوال گزینه ۲ می باشد.

۱۲۹- معلمی به دلیل تعطیلی استخر در برخی روزهای زمستان، از دانش آموزان خود

خواسته حرکات مختلف شنا را در بیرون از آب انجام دهند. نوع سنجش این معلم کدام است ؟

۱ - نمونه کار

۲ - مشاهده ای

۳ - در موقعیت طبیعی

۴ - قیاس پذیر

گزینه صحیح این سوال گزینه ۴ می باشد.

۱۳۰- معلم یکی از هنرستان ها، در پایان ترم از دانش آموزان خود خواست که به صدای

یک موتور معیوب خودرو گوش دهند و علت عیب را شناسایی کنند. این معلم برای سنجش

میزان یادگیر دانش آموزان خود، از کدام شیوه سنجش کمک گرفته است؟

- ۱ - عملکردی
- ۲ - مشاهده ای
- ۳ - کارپوشه
- ۴ - رفتاری

گزینه صحیح این سوال گزینه ۱ می باشد

شاخه نبات

۱۳۱- ساحت تربیت اجتماعی سیاسی، دارای اصولی است، کدام مورد در شمار این اصول قرار نمیگیرد؟

- ۱ - توجه به هویت ملی و انسجام اجتماعی
- ۲ - توجه به میراث غنی ادبیات فارسی
- ۳ - تأکید بر هویت انسانی، ایرانی و اسالمی
- ۴ - تفکیک دین و سیاست و حق و تکلیف

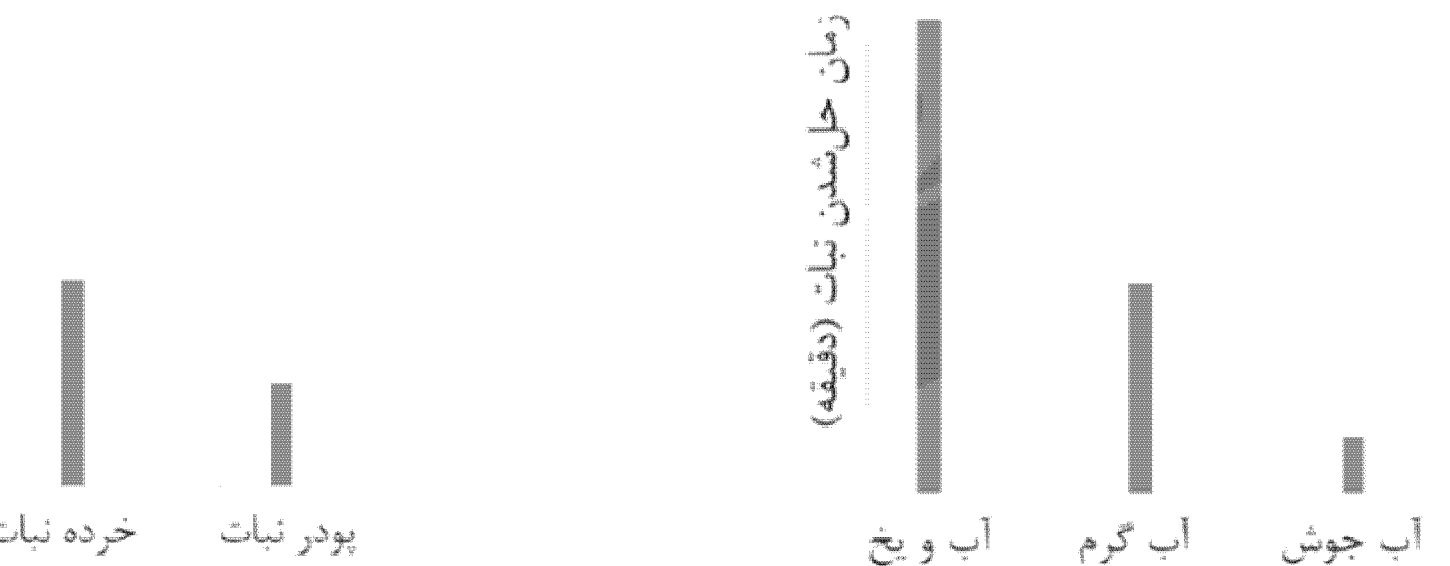
گزینه صحیح این سوال گزینه ۴ می باشد

۱۳۲- ساحت تربیت اقتصادی، ناظر به رشد توانایی های متربی در تدبیر امر معاش است، کدام مورد زیر، در این قلمرو نمیگنجد؟

- ۱ - گسترش عدالت اجتماعی
- ۲ - شناخت و مهارت حرفه ای
- ۳ - ادراک مسائل اقتصادی
- ۴ - رعایت بهره وری

گزینه صحیح این سوال گزینه ۱ می باشد

۱۳۳- در دو آزمایش جداگانه حل شدن نبات در آب در شرایط متفاوت بررسی شده است. نمودارهای زیر داده های مربوط به این دو آزمایش را نشان می دهند با توجه به نمودارها، کدام نتیجه گیری ها صحیح هستند؟



نمودار ۱

نمودار ۲

۱) هر چه اندازه ذره های نبات کوچک تر باشد در شرایط یکسان سرعت حل شدن نبات بیشتر است.

۲) در شرایط یکسان قالب های بزرگ را نسبت به همان مقدار یخ خرد شده به مدت کوتاه تر می توان نگهداری کرد.

۳) نمودار ۱، تأثیر اندازه ذره های نبات و نمودار ۲، تأثیر دمای آب بر حل شدن نبات را نشان می دهند.

۴) با توجه به این داده ها می توان پیشبینی کرد که در شرایط یکسان پودر فندق کندتر از مغز فندق خرد نشده بوی کهنگی می گیرد.

۱ - ۲ و ۴

۲ - ۳ و ۴

۳ - ۱ و ۳

۴ - ۱ و ۲ و ۳ و ۴

گزینه صحیح این سوال گزینه ۳ می باشد

۱۳۴- خداوند در آیات قرآن، به افراد با ایمان که به تعهدات خود عمل کنند و مسئولیت را

بپذیرند وعده داده

که آنها را در زمین جانشین قرار دهد تا به برسند و در سایه آن بتوانند را محقق نمایند.

- ۱ - حکومت - عدالت
- ۲ - آرامش - عدالت
- ۳ - امنیت - بندگی خدا
- ۴ - حکومت - بندگی خدا

گزینه صحیح این سوال گزینه ۳ می باشد

۱۳۵- فرایند مشاهده یک پدیده فیزیکی مانند تبخیر آب شامل کدام موارد می تواند باشد؟

- (۱) استفاده از ابزار
- (۲) حدس زدن
- (۳) بیان علت
- (۴) توصیف مشاهده با نقاشی
- (۵) به کارگیری حواس پنجگانه
- (۶) بیان احساسات

۱ - ۱ و ۴ و ۵

۲ - ۱ و ۲ و ۴ و ۵

۳ - ۲ و ۳ و ۶

۴ - ۱ و ۲ و ۴ و ۶

گزینه صحیح این سوال گزینه ۲ می باشد

۱۳۶- کدام یک از نویدهای قرآنی به شخص با ایمان برای رسیدن به سعادت، صحیح تر است؟

- ۱ - هدایت شدن - ثمربخش بودن تلاش ها - پیروز شدن بر دشمن
- ۲ - برخورداری از تکیه گاه مطمئن - هدایت شدن - انتقال سریع به آخرت
- ۳ - برخورداری از مدد الهی - رهایی از سختی ها - برخورداری از حمایت ها
- ۴ - پیروزی بر دشمن - قابل بخشش بودن لغزش ها - برخورداری از شفاعت

گزینه صحیح این سوال گزینه ۱ می باشد

۱۳۷- ایمان همراه با کدام مرود امنیت به همراه می آورد؟

۱ - تقوا

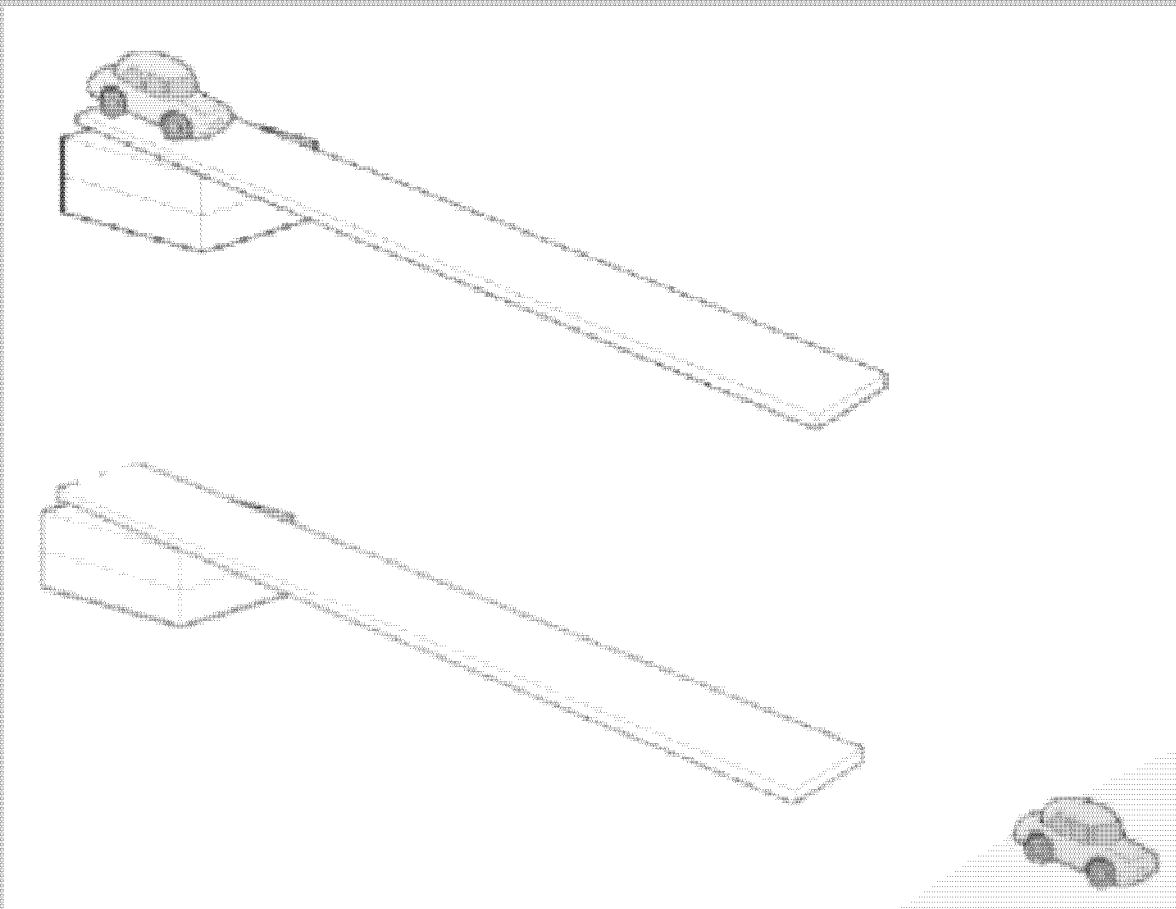
۲ - تلاش

۳ - تعهد

۴ - عدالت

گزینه صحیح این سوال گزینه ۳ می باشد.

۱۳۸- دانش آموزی می خواهد کشف کند که (آیا نوع سطح شیبداری که اسباب بازی روی آن قرار می گیرد، روی مسافتی که اسباب بازی طی میکند تأثیر دارد؟) او در بررسی خود، باید را ثابت نگه دارد . «؟ روی مسافتی که اسباب بازی طی میکند تأثیر دارد و را تغییر دهد و را اندازه گیری کند.



۱ - جنس سطح شیبدار - اسباب بازی - زمان رسیدن به پایین سطح شیبدار

۲ - اسباب بازی - شیب سطح - زمان رسیدن به پایین سطح شیبدار

۳ - اسباب بازی - جنس سطح شیبدار - مسافتی که پیموده می شود

۴ - اسباب بازی - شیب سطح - مسافتی که پیموده می شود.

گزینه صحیح این سوال گزینه ۳ می باشد

۱۳۹ - معنای جامع اقامه الصلوه در قرآن چیست؟

۱ - خواندن نماز با آداب و شرایط

۲ - به پاداشتن نماز در جامعه

۳ - خواندن نماز

۴ - تشویق به جا آوردن نماز

گزینه صحیح این سوال گزینه ۲ می باشد

۱۴۰ - از آیه شریفه «وَأَطِيعُوا أَهْلَ الْوَالِدِ وَالرُّسُلِ لَعَلَّكُمْ تُرْحَمُونَ»، مستفاد میشود: «زمانی که

یک ملت از اسارت

ها و زنجیرها آزاد میشود، به رشد انسانی میرسد و رحمت خداوند شامل حالش میگردد که»

.....

۱ - ایمان واقعی داشته باشد.

۲ - به مسئولیتش عمل کند.

۳ - با دشمنان مبارزه داشته باشد.

۴ - منتظر امداد الهی باشد و خود در میدان عمل حاضر شود.

گزینه صحیح این سوال گزینه ۲ می باشد

۱۴۱ - کدام آیه شریفه مؤید پیام زیر است؟

«ایمان باید از روی شعور، آگاهی و فهم باشد و نه کورکورانه و از روی تقلید.»

۱ - رَبَّنَا إِنَّا سَمِعْنَا مُنَادِيًا يُنَادِي لِلإِيمَانِ

۲ - إِنَّمَا الْمُؤْمِنُونَ الَّذِينَ إِذَا ذُكِرُوا هَلَلُوا جَلَّتْ قُلُوبُهُمْ

۳ - أُولَئِكَ هُمُ الْمُؤْمِنُ وَنَحْنُ لَهُمْ دَرَجَاتٌ عِنْدَ رَبِّهِمْ

۴ - «وَمِنَ النَّاسِ مَنْ يَقُولُ آمَنَّا بِاللَّهِ بِالْيَوْمِ الْآخِرِ وَمَا هُمْ بِمُؤْمِنِينَ

گزینه صحیح این سوال گزینه ۱ می باشد

۱۴۲- ایمان حقیقی و زاینده چیست؟

- ۱ - اقرار زبانی و قلبی
- ۲ - باور آگاهانه
- ۳ - دل پاک و عمل پاک
- ۴ - باور و دل پاک

گزینه صحیح این سوال گزینه ۳ می باشد

۱۴۳- از همه چیز دست شستن به خاطر هدف، به خاطر پیوستن به جامعه اسلامی و به خاطر

قبول تعهد

در مجموعه تشکیلات جامعه اسلامی، مفهوم کدام یک از عناوین زیر است؟

- ۱ - انفاق
- ۲ - ایثار
- ۳ - جهاد
- ۴ - هجرت

گزینه صحیح این سوال گزینه ۳ می باشد

۱۴۴- معادن، ثروت های زیرزمینی، مراتع و جنگل ها، مصادق کدام مورد زیر است؟

کاسه چینی

- ۱ - انفال
- ۲ - انفاق
- ۳ - صدقات
- ۴ - بیت المال

گزینه صحیح این سوال گزینه ۱ می باشد

۱۴۵- گله مندی رهبر انقلاب در سخنرانی های سال ۱۳۵۲ در مسجد امام حسن مجتبی (ع)

در مشهد، جهت

تکثیر محدوده پلی کپی های آیات قرآن، نشان دهنده کدام یک از موارد زیر است؟

۱ - عدم همکاری مؤمنین

۲ - کمبود امکانات

۳ - ملاحظه شهربانی

۴ - صرفه جویی

گزینه صحیح این سوال گزینه ۲ می باشد

۱۴۶- در دوکاسه چینی به مقدار مساوی بستنی قرار داده درون یکی قاشق فلزی و درون

دیگری قاشق چوبی

همانند شکل زیر قرار می دهیم سپس هر دو را روی میز آشپزخانه می گذاریم و به مدت

۱۵ دقیقه آن را

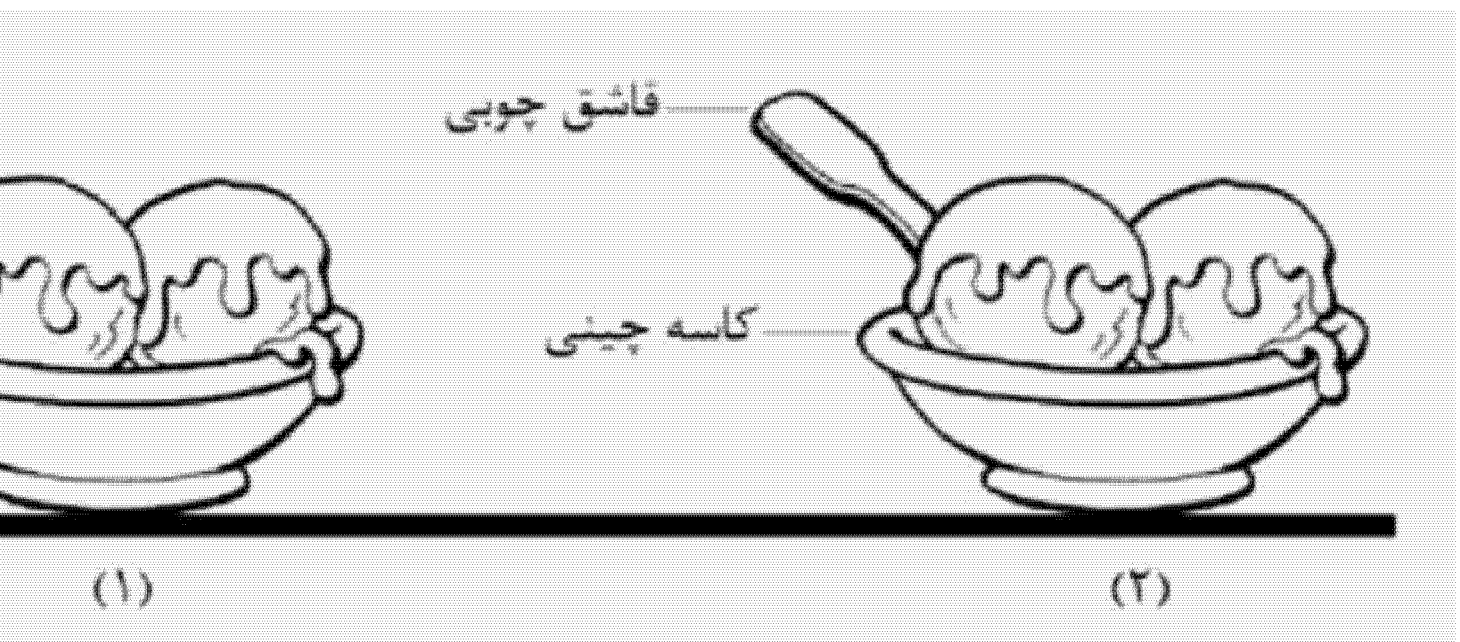
مشاهده می کنیم کدام مشاهدات، زیر می توانند صحیح باشند؟

۱- در کاسه شماره ۱، بستنی سریع تر از کاسه شماره ۲، ذوب می شود.

۲- دمای دسته قاشق فلزی از دسته قاشق چوبی پایین تر است.

۳- وقتی قاشق چوبی را لمس می کنیم احساس می کنیم سردتر از قاشق فلزی است.

۴- بستنی کاسه شماره ۲، دمای بیشتری از بستنی کاسه شماره ۱ دارد.



۱ - ۱ و ۳

۲ - ۱ و ۲

۳ - ۱ و ۲ و ۴

۴ - ۲ و ۳ و ۴

گزینه صحیح این سوال گزینه ۲ می باشد

-

-

۱۴۷- کدام عبارت صحیح است؟

- ۱ - آب اکسیژنه، رنگ همه مواد رنگی را می تواند از بین ببرد یا تغییر دهد.
- ۲ - اغلب عنصرها در طبیعت به حالت آزاد یافت میشوند.
- ۳ - هرگاه روی برگ سبز یک گیاه مقداری هیدروکلریک اسید ریخته شود رنگ آن قهوه ای می شود.
- ۴ - ریخته شدن استیک اسید روی سنگ مرمر صاف، تغییری در آن ایجاد نمی کند.

گزینه صحیح این سوال گزینه ۳ می باشد

۱۴۸- کدام امام (ع) بنیان گذار نهضت مخفی شیعی است؟

- ۱ - امام حسن (ع)
- ۲ - امام سجاد (ع)
- ۳ - امام کاظم (ع)
- ۴ - امام باقر (ع)

گزینه صحیح این سوال گزینه ۲ می باشد

۱۴۹- استفاده از رویکرد زمینه محور در آموزش علوم تجربی بر اساس کدام یک از موارد زیر می تواند در یادگیری مفاهیم علمی کارآمد باشد؟

- ۱) با احساس یادگیرنده درگیر می شود.
- ۲) مستقل از تجارب یادگیرنده است.
- ۳) قابلیت تلفیق علوم تجربی با موضوعات دیگر را دارد.
- ۹) بی نیاز از به کارگیری مهارت های فرآیندی علوم است.

۱ - ۲

۲ - ۴

۳ - ۱ و ۳

۴ - ۱ و ۲ و ۴

گزینه صحیح این سوال گزینه ۳ می باشد

۱۵۰- دانش آموزی قصد داشت با انجام آزمایش نشان دهد که (دویدن باعث افزایش ضربان قلب می شود)، برای این منظور چهار آزمایش طراحی کرد کدام آزمایش می تواند درستی نظر دانش آموز را نشان شود دهد؟ (شمارش نبض در یک دقیقه انجام می شود).

- ۱ - شمارش نبض بلافاصله بعد از دویدن
- ۲ - شمارش نبض بلافاصله قبل و بعد از دویدن
- ۳ - شمارش نبض ۱۰ دقیقه قبل و بعد از دویدن
- ۴ - شمارش نبض بلافاصله قبل از دویدن و ۱۰ دقیقه بعد از دویدن

گزینه صحیح این سوال گزینه ۲ می باشد

۱۵۱- گریه ده ساله بر خود در سرزمین منا، به ترتیب وصیت کدام امام و به چه جهت بود؟

- ۱ - امام حسین (ع) - آگاهی مردم از مظلومیت حضرت در جامعه دینی آن زمان
- ۲ - امام صادق (ع) - شناخت حضرت و شناخت دشمنان دوستن مای ایشان
- ۳ - امام حسن (ع) - آگاهی مردم از مظلومیت حضرت حتی در منزل خود
- ۴ - امام باقر (ع) - شناخت حضرت و اهداف والای ایشان


گزینه صحیح این سوال گزینه ۴ می باشد

۱۵۲- وجود امام در هر زمانی، چه نتیجه ای برای غیر شیعیان دارد؟


- ۱ - ترویج فرهنگ همزیستی مسالمت آمیز
- ۲ - جلوگیری از جنگ های مذهبی و قبیله ای
- ۳ - ارتقای سطح فرهنگ جامعه
- ۴ - ترویج اخلاقیات در بین افراد جامعه

گزینه صحیح این سوال گزینه ۳ می باشد


۱۵۳- دانش آموزی بخش هایی از چند گیاه را نقاشی کرد، اما از یاد برد که مشخص کند هر نقاشی مربوط به کدام گیاه است. تصاویر زیر نقاشی های این دانش آموز را نشان میدهند. او درباره اینکه چه بخش هایی مربوط به یک گیاه هستند موارد ۱ تا ۴ را نوشت کدام مورد صحیح است؟



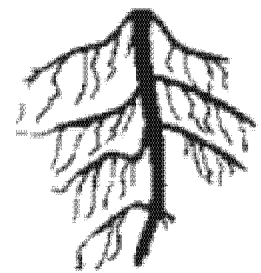

(۱)



(۲)



(۳)



- ۱ - شماره های ۳ و ۴ و ۶ مربوط به یک گیاه هستند
- ۲ - شماره های ۲ و ۴ مربوط به یک گیاه هستند
- ۳ - شماره ۲ مربوط به گیاهی است که ریشه ای مشابه شماره ۵ دارد
- ۴ - گیاهی با گلی مشابه شماره ۱، ریشه ای مشابه شماره ۵ دارد.

گزینه صحیح این سوال گزینه ۴ می باشد.

۱۵۴ - پس از معاویه، کدام خلیفه، مروج تفکر جبرگرایانه بود؟

- ۱ - حجاج بن یوسف
- ۲ - هشام بن عبدالملک
- ۳ - عبدالملک مروان
- ۴ - منصور دوانیقی

گزینه صحیح این سوال گزینه ۳ می باشد.

۱۵۵ - بنابر به نظر مرحوم آل یاسین، کدام مورد در خصوص هر فکری که مورد خشم قدرت های زمانه قرار گیرد، صحیح است؟

- ۱ - به صورت کامل قابل محو شدن نیست.

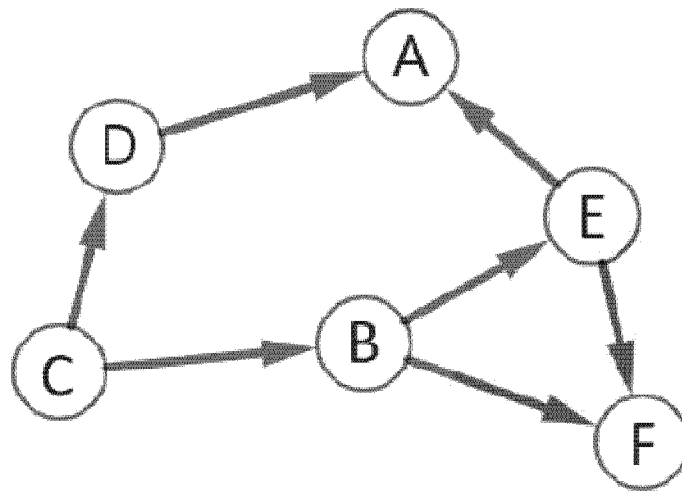
۲ - محکوم به رشد کردن است.

۳ - دلالت بر حقانیت آن فکر است.

۴ - محکوم به شکست است.

گزینه صحیح این سوال گزینه ۳ می باشد.

۱۵۶ - شکل زیر یک شبکه غذایی بین چند جاندار در یک زیستگاه را نشان می دهد. در این شبکه فقط جاندار (C) توانایی ساختن نشاسته را دارد. با توجه به شکل کدام مورد صحیح است؟



- ۱ - حذف جاندار E، اثر افزایشی بر جمعیت A دارد
- ۲ - حذف جاندار A، اثر افزایشی بر جمعیت A دارد
- ۳ - حذف جاندار A، اثر افزایشی بر جمعیت B و D دارد
- ۴ - کاهش جمعیت C، تاثیری بر جمعیت A و F ندارد

گزینه صحیح این سوال گزینه ۲ می باشد.

۱۵۷ - در خصوص احیای مبانی فکری اسلام و تشکیل و اداره یک حزب مذهبی و سیاسی، کدام مورد صحیح است؟

- ۱ - لازمه بقای اسلام بود.
- ۲ - از اقدامات امام باقر (ع) است
- ۳ - یک ضرورت اجتناب ناپذیر بود.
- ۴ - از اقدامات امام سجاد (ع) است.

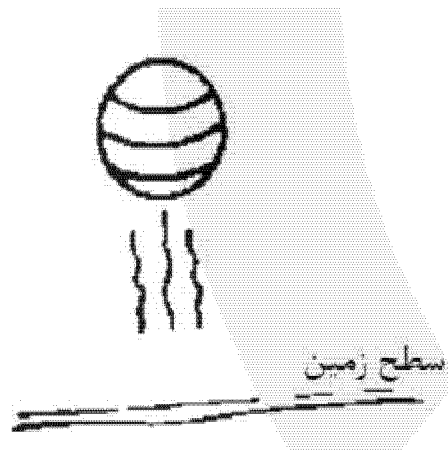
۱۵۸- منظور از کلمه «سَد» در قرآن کریم، هنگام مقابله میان مؤمنین و یاجوج و ماجوج ها

چیست؟

- ۱ - تقیه
- ۲ - جهاد
- ۳ - ایمان
- ۴ - پیروزی

گزینه صحیح این سوال گزینه ۱ می باشد

۱۵۹- توپ والیبالی را در راستای قائم به طرف بالا پرتاب می کنیم توپ به ارتفاع H رسیده و سپس به طرف زمین باز می گردد. در ارتفاع H چه نیرویی بر توپ وارد می شود؟ (توجه در شرایط آزمایش بادی نمی وزد.)



- ۱ - نیروی مغناطیس زمین
- ۲ - هیچ نیرویی وارد نمی شود.
- ۳ - نیروی گرانش
- ۴ - نیروی مقاومت هوا

گزینه صحیح این سوال گزینه ۳ می باشد

۱۶۰- مخاطب شعر دعبل خزایی ((افاطم لو خلت الحسین مجدلا وقدامات عطشانا بشط فرات))

در محضر امام رضا (ع)، کدام یک از افراد زیر است؟

۱ - اسرای کربلا

۲ - امام رضا (ع)

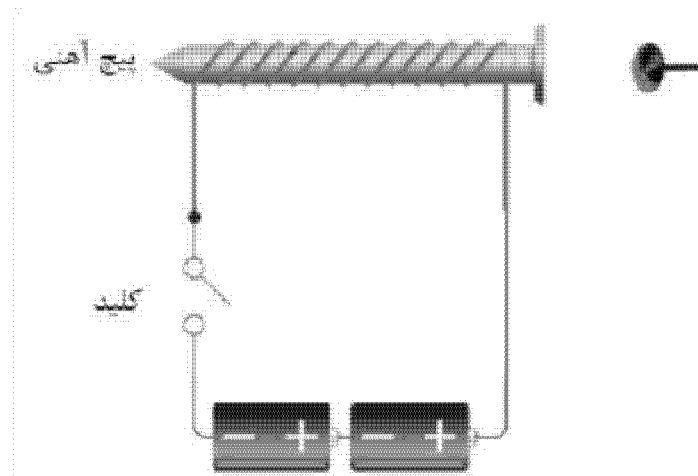
۳ - شهدای کربلا

۴ - حضرت فاطمه (س)

گزینه صحیح این سوال گزینه ۴ می باشد

- ۱۶۱- در شکل زیر آهنربای الکتریکی درست شده توسط دانش آموز پونز را از فاصله ۰ ساتی متری جذب می کند. دانش آموز می خواهد این آهنربا پونز را از فاصله بیشتر از ساتی متری جذب کند. کدام تغییرات می تواند به او کمک کند تا این اتفاق بیفتد؟

- ۱) تعداد دورهای سیم، به دور پیچ را افزایش دهد.
- ۲) از باتری های قوی تر با ولتاژ بیشتر استفاده کند.
- ۳) یکی از باتری ها را حذف کند.
- ۴) از سیم نازک تر با همان تعداد دور استفاده کند.



۱ - ۱ و ۲

۲ - ۲ و ۴

۳ - ۱ و ۳

۴ - ۳ و ۴

گزینه صحیح این سوال گزینه ۱ می باشد

۱۶۲- دلیل اصلی بدنام شدن برخی امامزادگان انقلابی (ع)، چه بود؟

- ۱ - حمایت نکردن دوستان
- ۲ - تهمت های حکومت های ظالم
- ۳ - غفلت مردم
- ۴ - قیام های نابجا و تندروانه

گزینه صحیح این سوال گزینه ۲ می باشد

۱۶۳ - کدام مورد در خصوص استفاده از لفظ «باب ائمه»، صحیح است؟

- ۱ - هنگام انجام مسائل نظامی کاربرد داشت.
- ۲ - در امور آشکار و روزمره بین مردم و امام به کار میرفت.
- ۳ - در مسائل پنهانی و مخفی، بین امام و دیگران به کار میرفت.
- ۴ - برای کسانی که همیشه در خدمت امام معصوم بودند به کار میرفت.

گزینه صحیح این سوال گزینه ۳ می باشد

۱۶۴ - صبغه تشکیل حکومت پیامبر اکرم (ص) چه تفاوتی با سایر حکومت های جهان داشت؟

- ۱ - بسط عدالت اجتماعی
- ۲ - بسط عدالت آموزشی
- ۳ - بسط عدالت سیاسی
- ۴ - بسط عدالت اخلاقی

گزینه صحیح این سوال گزینه ۱ می باشد

۱۶۵ - بنا به نظر امام خمینی (ره)، معیار برای ارزیابی تعهد هر کسی به جمهوری اسلامی

ایران کدام است؟

- ۱ - تأیید مردم
- ۲ - حال فعلی او
- ۳ - وضعیت گذشته او
- ۴ - هر کس را که ایشان حکمی به وی تفویض نموده اند.

گزینه صحیح این سوال گزینه ۲ می باشد

۱۶۶- کدام موارد از ویژگی های آموزش مبتنی بر رویکرد کاوشگری است؟

- ۱) توضیح و شرح مفاهیم و موضوعات درسی توسط معلم پیش از انجام فعالیت های عملی یا ذهنی
- ۲) طراحی فعالیت های مناسب برای تدریس موضوع درسی در قالب کاربرگ، آزمایش، ساختن وسیله، فعالیت های عملی توسط معلم
- ۳) ارائه یافته های دانش آموزان یک گروه برای سایر دانش آموزان کلاس
- ۴) کشف مفهوم و موضوعات یادگیری توسط دانش آموزان از طریق انجام فعالیت های گوناگون
- ۵) شروع جلسه درسی با طرح یک مسئله

۱ - ۲ و ۳ و ۴ و ۵

۲ - ۱ و ۳ و ۴ و ۵

۳ - ۲ و ۳ و ۴

۴ - ۱ و ۲ و ۳

گزینه صحیح این سوال گزینه ۱ می باشد.

۱۶۷- مخاطب وصیتنامه سیاسی-الهی امام خمینی (ره) چه کسانی هستند؟

- ۱ - جمیع مردم ایران و استادان و عالمان جهان
- ۲ - جمیع مؤمنین اسلامی و مؤمنان مظلوم جهان
- ۳ - جمیع مجاهدان اسلام و مظلومان جهان
- ۴ - جمیع ملل اسلامی و مظلومان جهان

گزینه صحیح این سوال گزینه ۴ می باشد.

۱۶۸- معلم برای تدریس درس (تغییر فصول و گردش زمین) در علوم تجربی پایه دوم، دو پرسش زیر را مطرح می کند. پرسش های زیر، برای تقویت کدام مهارت های فرایندی مناسب ترند؟

۱) در زمستان نور بیشتر به داخل اتاق می‌رسد یا تابستان؟

۲) تابش مستقیم نور خورشید در زمستان به داخل اتاق بیشتر نفوذ می‌کند یا در تابستان؟

۱ - مشاهده - جمع آوری اطلاعات

۲ - پیشبینی - مشاهده

۳ - فرضیه سازی - تجزیه و تحلیل

۴ - پیشبینی - آزمایش

گزینه صحیح این سوال گزینه ۱ می‌باشد

۱۶۹ - معلم برای تدریس درس (از گذشته تا آینده <نان>) در علوم تجربی پایه دوم فعالیت های آموزشی زیر را انجام داد.

۱) دانش آموزان را به نانوایی برده تا شاهد مراحل مختلف پخت نان باشند.

۲) در کلاس درس از آن ها خواست تا درباره آنچه مشاهده کرده اند، گفت و گو کنند.

۳) به عنوان تکلیف از آن ها خواست تا درباره شیوه پخت نان های محلی از والدین خود سوال کنند.

۴) جلسه بعدی آنچه را از والدین شنیده اند در کلاس بیان کنند.

برای تکمیل این آموزش کدام یک از فعالیت های زیر مناسب تر است؟

۱ - معلم، مطالب تدریس شده را در ابتدای جلسه بعدی ارزشیابی کند.

۲ - دانش آموزان، خلاصه ای از مطالب گفته شده در کلاس را بیان کنند.

۳ - دانش آموزان، در مورد اهمیت نان در فرهنگ مردم، اطلاعات جمع آوری کنند.

۴ - دانش آموزان، تصاویری از فرایند پخت نان و دستگاه ها و ابزار مورد استفاده در طول زمان به اشتراک بگذارند.

گزینه صحیح این سوال گزینه ۴ می‌باشد

۱۷۰ - از نظر امام خمینی (ره)، بیشترین احکام اسلامی در کدام حوزه ها است؟

۱ - عبادی و اخلاقی

۲ - حلال و حرام

۳ - حکومت و سیاست

۱۷۱- هدف از ذکر نام هر تصویر زیر نگاره ها در کتاب فارسی پایه اول چیست؟

۱ - آشنایی با حروف الفبا

۲ - یادگیری رسمالخط چاپی

۳ - یادگیری شکل نوشتاری کلمه

۴ - آشنایی با شکل کلی کلمه

گزینه صحیح این سوال گزینه ۴ می باشد

۱۷۲- از توطئه های بزرگ دشمنان سعی در به دست گرفتن کدام مراکز زیر است؟

۱ - دولت و مجلس شورای اسلامی

۲ - مجلس شورای اسلامی و مجلس خبرگان

۳ - تعلیم و تربیت

۴ - پادگان ها و مراکز حساس اقتصادی

گزینه صحیح این سوال گزینه ۳ می باشد

۱۷۳- (پرورش و تقویت علاقه و ارج گذاری به زبان و ادبیات فارسی) در کدام حیطه از

اهداف کلی کتاب فارسی پایه ششم قرار می گیرد؟

۱ - شناختی

۲ - علمی

۳ - عاطفی

۴ - مهارتی

گزینه صحیح این سوال گزینه ۳ می باشد

۱۷۴- کدام مورد (رویکرد خاص) در برنامه زبان آموزی کتاب فارسی پایه چهارم است؟

- ۱ - میانیت از زبان و ادبیات فارسی
- ۲ - آموزش مهارت های چهارگانه زبانی و فرازبانی
- ۳ - شکوفایی فطرت الهی
- ۴ - آشنایی با خود خلق و خلقت

گزینه صحیح این سوال گزینه ۲ می باشد

۱۷۵ - توصیه هایی که حضرت امام خمینی (ره) به «دولت» و «ملت ایران» کردند، به ترتیب کدام اند؟

- ۱ - خدمتگزاری به مردم- ثابت قدم بودن (یثبت اقدامکم)
- ۲ - رعایت بیت المال- ثابت قدم بودن (یثبت اقدامکم)
- ۳ - تقوای الهی - ثابت قدم بودن (یثبت اقدامکم)
- ۴ - خدمتگزاری به مردم- تقوای الهی

گزینه صحیح این سوال گزینه ۱ می باشد

۱۷۶ - مهم ترین عاملی که اقتصاد کشور را از بیرون و درون دچار چالش میسازد، کدام است؟

- ۱ - وابستگی به نفت
- ۲ - عدم استفاده از جوانان مؤمن و دانا
- ۳ - تحریم دشمن
- ۴ - عملکردهای ضعیف

گزینه صحیح این سوال گزینه ۴ می باشد

۱۷۷ - در کتاب فارسی کدام یک از فعالیت های زیر برای تقویت (درک مطلب) در مهارت خواندن طراحی شده است؟

- ۱ - درست و نادرست - واژه آموزی - دانش زبانی
- ۲ - قصه گوئی - هنر و سرگرمی - دانش زبانی
- ۳ - درست و نادرست - قصه گوئی - نگاه کن و بگو

۴ - واژه آموزی - هنر و سرگرمی - نگاه کن و بگو

گزینه صحیح این سوال گزینه ۱ می باشد

۱۷۸ - معلم پایه ششم می خواهد (آرایه مبالغه) را به دانش آموزان بیاموزد. کدام مثال، زیر این آرایه را نشان می دهد؟

- ۱ - ز سمش زمین شد همه چاک چاک!!
- ۲ - او از هفت خان رستم گذشته است.
- ۳ - درب خانه او همیشه باز است.
- ۴ - وطن همچو جان در بدن است.

گزینه صحیح این سوال گزینه ۱ می باشد

۱۷۹ - کانون های دشمنی که برای خفه کردن صدای متفاوت انقلاب اسلامی، تلاش های گسترده و مختلفی

انجام داده اند، کدام اند؟

- ۱ - آمریکا و راست مدرنیته
- ۲ - غرب و شرق
- ۳ - شوروی و چپ مدرنیته
- ۴ - اروپا و چپ کمونیست

گزینه صحیح این سوال گزینه ۲ می باشد

۱۸۰ - آموزگار جمله های یک داستان کوتاه را به صورت به هم ریخته به دانش آموز می دهد تا جمله ها را به ترتیب رویداد شماره گذاری کند. با این فعالیت، معلم کدام گام از گام های فرایند درک متن را مورد سنجش قرار می دهد؟

- ۱ - درک اطلاعات صریح متن
- ۲ - رعایت لحن و آهنگ متن
- ۳ - تفسیر اطلاعات متن
- ۴ - تلفیق اطلاعات متن

گزینه صحیح این سوال گزینه ۴ می باشد

۱۸۱- آشکارترین وسیله عزت و قدرت کشور در گام دوم انقلاب اسلامی کدام است؟

۱ - دانش

۲ - ثروت

۳ - دانش و ایمان

۴ - جهاد علمی و اخلاقی

گزینه صحیح این سوال گزینه ۱ می باشد

۱۸۲- کدام یک از موارد زیر جزو اهداف درس آزاد در فارسی دوره ابتدایی نیست؟

۱ - شناخت بیشتر شخصیت های علمی و فرهنگی محل زندگی

۲ - ایجاد فضای بازی و سرگرمی در فعالیت های گروهی کلاسی

۳ - پرورش توانایی نویسندگی

۴ - آشنایی با برخی از نمودهای فرهنگی بومی

گزینه صحیح این سوال گزینه ۲ می باشد

۱۸۳- در گام دوم انقلاب اسلامی، مهمترین ظرفیت امید بخش چیست؟

۱ - نیروی انسانی کارآمد، مؤمن و عالم با روحیه جهادی

۲ - جوانان و محققان علمی، فرهنگی و صنعتی

۳ - منابع خام و عظیم زیرزمینی

۴ - جوانان انقلابی

گزینه صحیح این سوال گزینه ۱ می باشد

۱۸۴- بخش روانخوانی در کتاب فارسی پایه اول، در حیطه شناختی کدام هدف آموزشی را

دنبال میکند؟

- ۱ - تقویت نگرش مثبت به درس فارسی
- ۲ - تقویت مهارت خوب گوش دادن
- ۳ - ایجاد علاقه به موضوعات درسی (انس با قرآن، وطن دوستی و ...)
- ۴ - آشنایی با نشانه های آوایی (صدا) زبان فارسی

گزینه صحیح این سوال گزینه ۴ می باشد

۱۸۵ - بیشترین افرادی که در بیانیه گام دوم انقلاب اسلامی توسط مقام معظم رهبری مورد خطاب واقع شده اند، چه کسانی هستند؟

- ۱ - علمای دینی
- ۲ - انشمندان و اساتید دانشگاه
- ۳ - جوانان
- ۴ - انقلابیون

گزینه صحیح این سوال گزینه ۳ می باشد

۱۸۶ - کدام فعالیت زیر بیانگر (املاء تقریری) است؟

- ۱ - معلم جملاتی از متن درس را انتخاب کرده، با صدای بلند و شمرده می خواند و دانش آموزان می نویسند.
- ۲ - دانش آموزان به نوبت، کلمه ای را که از متن درس انتخاب کرده اند، روی تابلو می نویسند.
- ۳ - آموزگار متنی را که برخی از نشانه ها در کلماتش جا افتاده، در اختیار دانش آموز می گذارد تا جاهای خالی را کامل کند.
- ۴ - دانش آموز یک کلمه از متن درس انتخاب کرده و می نویسد و سپس با نشانه آخر آن کلمه واژه بعدی را می نویسد.

گزینه صحیح این سوال گزینه ۱ می باشد

۱۸۷ - علت ماندگاری شعارهای جهانی انقلاب دینی ایران چیست؟

۱ - انقلابی بودن شعارهای آن

۲ - تطابق این شعارها با فطرت بشر در همه عصرها

۳ - نوگرا بودن این شعارها

۴ - کسب موفقیت های چهل ساله

گزینه صحیح این سوال گزینه ۲ می باشد

۱۸۸ - بند زیر را یک دانش آموز پایه چهارم نوشته است. این بند، چه نوع بندی است؟

(دیروز به کتابخانه مسجد رفتم. سالن کتابخانه کاملاً ساکت بود. تعدادی میز و صندلی در آن دیده می شد.

چند نفر مشغول مطالعه بودند. دور تا دور سالن پر از قفسه های کتاب بود. قفسه ها چهار ردیف داشتند.

کتابی برداشتم و شروع به خواندن کردم ...)

۱ - علمی

۲ - حماسی

۳ - توصیفی

۴ - نقل قول

گزینه صحیح این سوال گزینه ۳ می باشد

۱۸۹ - آموزگار پایه ششم پس از تدریس درس نهم با عنوان (راز زندگی) دانش آموزان را

گروه بندی کرده و از ایشان می خواهد که این درس را به صورت نمایشنامه اجرا کنند. این معلم، به انجام کدام فعالیت از درس پرداخته است؟

۱ - کارگروه نویسندگی

۲ - کارگاه درس پژوهی

۳ - یادآوری

۴ - خودارزیابی

گزینه صحیح این سوال گزینه ۲ می باشد

۱۹۰- در بیانیه گام دوم انقلاب اسلامی، نخستین و ریشه ای ترین جهاد برای جوانان چه چیز معرفی شده است؟

- ۱ - پرهیز از سیاست بازی
- ۲ - تقویت اخلاق و روحیه ایمان
- ۳ - قطع وابستگی به غرب و شرق
- ۴ - امید بخشی و نگاه خوش بینانه به آینده

گزینه صحیح این سوال گزینه ۴ می باشد

۱۹۱- هدف از طرح سوال توسط دانش آموز در فعالیت (درک مطلب) پایه چهارم چیست؟

- ۱ - درک اطلاعات آشکار متن
- ۲ - تفسیر اطلاعات
- ۳ - اظهار نظر خلاقانه و آزاد دانش آموز
- ۴ - رسیدن به استنباط

گزینه صحیح این سوال گزینه ۳ می باشد

۱۹۲- کدام مورد، از مهمترین راه حل ها برای رفع مشکلات اقتصادی در کشور محسوب میشوند؟

- ۱ - مردمی شدن، دانش بنیان شدن و برونگرایی اقتصاد
- ۲ - درون زایی، مولد و دانش بنیان و مردمی کردن اقتصاد
- ۳ - تصدی گری دولت، دانش بنیان شدن و برونگرایی اقتصاد
- ۴ - تصدی گری دولت، مردمی کردن اقتصاد و بهره وری مبتنی بر اقتصاد نفتی

گزینه صحیح این سوال گزینه ۲ می باشد

۱۹۳- مسئولیت نظارت بر انتخابات ریاست جمهوری بر عهده کدام نهاد است؟


- ۱ - وزارت کشور
- ۲ - مجلس شورای اسلامی

۳ - شورای نگهبان

۴ - شورای منتخب مجلس و قوه قضائیه

گزینه صحیح این سوال گزینه ۳ می باشد

۱۹۴ - آموزگار پایه اول، پس از تکمیل تدریس نشانه های بخش دوم کتاب فارسی از دانش آموز چه انتظاری دارد؟



۱ - از روی متن درس ها، روان و درست بخواند.

۲ - انشای خلاق بنویسد.

۳ - نشانه های تدریس نشده در درس بخش سوم کتاب فارسی را بشناسد.

۴ - با استفاده از کلمات جدید یک متن کوتاه بنویسد.

گزینه صحیح این سوال گزینه ۴ می باشد

۱۹۵ - آموزگاری در کلاس درس می خواهد کلمه (سبزه زار) را آموزش دهد. هدف وی،

آموزش کدام مورد است؟

۱ - مضاف الیه

۲ - کلمات هم آوا

۳ - شبه

۴ - وندافزایی

گزینه صحیح این سوال گزینه ۴ می باشد

۱۹۶ - بر اساس اصل شانزدهم قانون اساسی، تدریس زبان عربی در کدام مقطع تحصیلی

الزامی است؟

۱ - دوره دانشگاه در کلیه رشته ها

۲ - دوره ابتدایی

۳ - پس از دوره ابتدایی تا پایان دوره متوسطه

۴ - دوره دوم متوسطه

گزینه صحیح این سوال گزینه ۳ می باشد.

۱۹۷ - هنگامی که آموزگار پایه پنجم، موضوع گروه های اجتماعی را تدریس می کند کدام مورد زیر را می تواند به عنوان گروه معرفی کند؟

۱ - دانش آموزانی که یک روزنامه دیواری تهیه می کنند.

۲ - بیمارانی که در مطب یک پزشک منتظر نشسته اند.

۳ - افرادی که در یک استادیوم، مشغول تماشای بازی هستند.

۴ - افرادی که در یک فروشگاه بزرگ مشغول خرید هستند.

گزینه صحیح این سوال گزینه ۱ می باشد.

۱۹۸ - مهم ترین هدف انجام کاربرگه ها در کتاب های مطالعات اجتماعی چیست؟

۱ - قرار دادن در پوشه کار

۲ - جمع آوری اطلاعات

۳ - تمرین بیشتر

۴ - تعمیق بیشتر

گزینه صحیح این سوال گزینه ۴ می باشد.

۱۹۹ - طبق قانون اساسی، کدام مورد جزو وظایف دولت محسوب می شود؟

۱ - تهیه وسایل آموزش عالی به صورت رایگان تا سطح کارشناسی

۲ - تهیه وسایل آموزش و پرورش و آموزش عالی در کلیه سطوح و مقاطع به صورت رایگان

۳ - تهیه وسایل آموزش و پرورش رایگان تا پایان دوره ابتدایی و گسترش وسایل تحصیلات عالی تا سرحد خودکفایی کشور

۴ - تهیه وسایل آموزش و پرورش رایگان تا پایان دوره متوسطه و گسترش وسایل تحصیلات عالی تا سرحد خودکفایی کشور

گزینه صحیح این سوال گزینه ۳ می باشد.

۲۰۰- عنصر کلیدی در آموزش جغرافیا، کدام است؟

۱ - کره جغرافیایی

۲ - نقشه

۳ - عکس

۴ - فیلم

گزینه صحیح این سوال گزینه ۲ می باشد

۲۰۱- فرایند تهیه بودجه سالانه لک کشور، به کدام صورت است؟

۱ - توسط دولت تهیه و به تصویب مجلس شورای اسلامی میرسد.

۲ - توسط مجمع تشخیص مصلحت نظام تهیه و تصویب میشود.

۳ - توسط سازمان برنامه و بودجه کشور تهیه و تصویب میشود.

۴ - توسط مجلس شورای اسلامی تهیه و تصویب میشود.

گزینه صحیح این سوال گزینه ۱ می باشد

۲۰۲- در آموزش درس (خرمشهر در چنگال دشمن) آوردن پرچم ایران و پخش سرود مربوط به آزادی خرمشهر در کلاس به منظور تقویت کدام صلاحیت و شایستگی اخلاقی و ایمانی است؟

۱ - میهن پرستی

۲ - حق طلبی

۳ - عدالت جویی

۴ - تعاون

گزینه صحیح این سوال گزینه ۱ می باشد

۲۰۳- هرگونه شکایت از طرز کار قوای سه گانه کشور، در کدام مرجع قابل طرح و پیگیری است؟

۱ - دیوان عالی کشور

۲ - دادگاه های دادگستری

۳ - دیوان محاسبات کشور

۴ - کمیسیون اصل نود قانون اساسی مجلس شورای اسلامی

گزینه صحیح این سوال گزینه ۴ می باشد.

۲۰۴ - شناخت تشویق و ترغیب به استفاده از لباس های محلی، ناظر بر کدام یک از ملاحظات مربوط به آموزش مطالعات اجتماعی است؟

۱ - توجه به تفاوت های فردی

۲ - استفاده از فضاهای مختلف

۳ - انطباق با شرایط بومی و محلی

۴ - تربیت اجتماعی و مهارت های زندگی

گزینه صحیح این سوال گزینه ۳ می باشد.

۲۰۵ - آموزگار پایه ششم، برای سنجش و ثبت یادگیری دانش آموزان از مفهوم برنامه متعادل زندگی، استفاده از کدام یک از کاربرگه های زیر را توصیه میکند؟

۱ - نمودار زندگی روزانه و خط زمان

۲ - نمودار زندگی روزانه

۳ - خط زمان

۴ - نمودار علت و معلول

گزینه صحیح این سوال گزینه ۴ می باشد.

۲۰۶ - کدام مورد جزو وظایف قوه قضائیه محسوب می شود؟

۱ - شرح و تفسیر اصول قانون اساسی

۲ - نظارت بر حسن اجرای قوانین

۳ - عفو و یا تخفیف مجازات محکومین

۴ - صلح دعاوی راجع به اموال عمومی و دولتی

گزینه صحیح این سوال گزینه ۴ می باشد.

۲۰۷- مهم ترین فایده آموزش در محیط های واقعی زندگی کدام است؟

- ۱ - ایجاد جذابیت لازم برای دانش آموزان
- ۲ - فراهم ساختن امکان کارگروهی دانش آموزان
- ۳ - یادگیری پایدار به دلیل عینی بودن
- ۴ - فراهم ساختن امکان تعامل دانش آموزان

گزینه صحیح این سوال گزینه ۳ می باشد.

۲۰۸- فعالیت زیر، به کدام سطح از پرورش مهارت ها در مطالعات اجتماعی اشاره دارد؟

معلم مطالعات اجتماعی پایه پنجم ابتدایی، از دانش آموزان خود می خواهد که نمایشنامه ای درباره درس وزیران کاردان شهرهای آباد

(بنویسند و در کلاس به همراه دوستان خود اجرا کنند)

- ۱ - برقراری ارتباط
- ۲ - کاوش و بررسی
- ۳ - مشارکت
- ۴ - خلاقیت

گزینه صحیح این سوال گزینه ۳ می باشد.

۲۰۹- در برنامه درسی مطالعات اجتماعی، کدام مورد در قالب (پرورش مهارت ها) نیست؟

- ۱ - خلاقیت
- ۲ - مشارکت
- ۳ - کاوش و بررسی
- ۴ - عدالت جویی

گزینه صحیح این سوال گزینه ۴ می باشد.

۲۱۰- حفاظت از محیط، از مفاهیم کلیدی کدام یک از حوزه های موضوعی مطالعات اجتماعی است؟

- ۱ - فرهنگ و هویت
- ۲ - فضا و مکان
- ۳ - زمان تداوم و تغییر
- ۴ - نظام اجتماعی

گزینه صحیح این سوال گزینه ۲ می باشد

۲۱۱- بهترین شیوه برای آموزش مهارت (نه گفتن) کدام است؟

- ۱ - ایفای نقش
- ۲ - نقش الگویی معلم
- ۳ - بحث گروهی
- ۴ - بازگو کردن خاطره

گزینه صحیح این سوال گزینه ۳ می باشد

۲۱۲- فرایند جمع آوری اطلاعات از آموخته های دانش آموزان و قضاوت در مورد حدود آموخته ها، به کدام معناست؟

- ۱ - ارزشیابی
- ۲ - بازخورد
- ۳ - سنجش
- ۴ - نظارت

گزینه صحیح این سوال گزینه ۱ می باشد

۲۱۳- دانش آموزان کلاس پنجم ابتدایی موظف شده اند که نمودار دمای شهر خود را در طول ۱۰ روز ثبت کنند. آموزگار این کلاس، با استفاده از کدام نوع آزمون می تواند دانش آموزان را ارزشیابی کند؟

۱ - مداد - کاغذی

۲ - شفاهی

۳ - عملکردی بلندمدت

۴ - عملکردی کوتاه مدت

گزینه صحیح این سوال گزینه ۳ می باشد

۲۱۴ - بر اساس متن زیر به ۲ سوال بعدی پاسخ دهید:

در سال ۱۹۲۹، آلفرد نورث وایتهد این گونه اظهار داشت که یادگیری شگردان بی فایده است، مگر اینکه کتاب

های خود را گم کنند. جزوات خود را بسوزانند و جزئیات از بر شده برای امتحان را فراموش کنند.

اظهارات وایتهد به این معناست که نمره واقعی تعلیم و تربیت، فرآیندی فکری است و به تنهایی از اطلاعات

جمع آوری شده ای که از مطالعه یک رشته به وجود آمده حاصل نمی شود. یک نویسنده در کتاب روانشناسی

خود می گوید: به نظر می رسد اولین و اصلی ترین رفتاری که مورد مطالعه قرار گرفته است، فرآیند یادگیری

است. یعنی اینکه چگونه یاد می گیریم. یادگیری در کجا صورت می گیرد، چرا بعضی از مطالب را زودتر یاد

می گیریم و بعضی دیگر را دیرتر، چه کار کنیم تا بهتر یاد بگیریم و ده ها سؤال دیگر. البته مسئله یادگیری

برای بزرگ تر ها مثل دانشجویان مبتدی کمی سخت به نظر می رسد. ممکن است برخی افراد مطلب را از

طریق تکرار متوالی یاد بگیرند، اما باید بدانند راه ها یادگیری نیز برای یادگیری سریع تر و حفظ کردن بهتر

مطالب وجود دارد و آن نیز شاید استفاده از وسایل کمک آموزشی در یادگیری دانش آموزان می باشد. در

کلاس درس، برخی عوامل اساسی دخیل در امور یادگیری عبارت از: وضع جسمی، روحی، علمی، فضای

شخصیتی معلم، محتوای منابع آموزشی، وسایل کمک آموزشی و فضای آموزشی. یادگیری امری بسیار

پیچیده و مستلزم دخالت عواملی است که در بالا، از آنها نامبرده شد و زمانی یادگیری اتفاق

می افتد که

این عوامل کنار هم باشند. روانشناسان مکتب رفتارگرایی معتقدند که برای مطالعه پدیده های پیچیده یادگیری باید آن ها را به اجزای ساده تر تجزیه کرد و از طریق مطالعه این اجزای ساده، به شناسایی پدیده های پیچیده دست یافت. با توجه به این مطالب یادگیری برای پیروان این مکتب به صورت مسئله ای در زمینه ادراک است.

هدف اصلی نویسنده، کدام است؟

- ۱ - ارائه طریق برای حل موضوعی به ظاهر ساده که مورد اختلاف نظر است.
- ۲ - بررسی مبانی نظری یادگیری در علم روانشناسی
- ۳ - نقد نظریه های مطرح در یک حوزه علمی
- ۴ - تالش در توضیح پدیده های خاص

گزینه صحیح این سوال گزینه ۲ می باشد.

۲۱۵ - زمانی که آموزگار مطالعات اجتماعی دانش آموزان را با منابع آبی کشور ایران آشنا نموده و آن ها را نسبت به مسئله کم آبی حساس می کند در واقع به ترتیب به تقویت کدام یک از سطوح شایستگی های دانش آموزان توجه نموده است؟

- ۱ - دانشی - ارزشی
- ۲ - ارزشی - دانشی
- ۳ - ارزشی - ارزشی
- ۴ - ارزشی - مهارتی

گزینه صحیح این سوال گزینه ۱ می باشد.

۲۱۶- در بررسی رویدادهای مربوط به تأسیس و سقوط سلسله های باستانی ایران، استفاده از کدام ابزار آموزشی مناسب تر است؟

۱ - بازدید از آثار باستانی

۲ - کتاب های تاریخی

۳ - خط زمان

۴ - بازدید از موزه ها

گزینه صحیح این سوال گزینه ۳ می باشد

۲۱۷- کدام مورد زیر، با نظر آلفرد نورث وایتهد مطابقت بیشتری دارد؟

۱ - جمع آوری اطلاعات پیش زمینه یادگیری را فراهم میآورد.

۲ - دانشی که از طریق تعامل فراگیران با دنیای واقعی حاصل نشود، ماندگاری ندارد.

۳ - به جای یاد دادن مفاهیم علمی هر رشته، باید نحوه تفکر نقادانه را به فراگیران آموزش داد.

۴ - برخی از مطالب مندرج در کتاب ها و جزوات آموزشی، غلط و با اصول علمی ناسازگار هستند.

گزینه صحیح این سوال گزینه ۳ می باشد

۲۱۸- کدام روش استدلالی زیر، در متن حاضر، مورد استفاده قرار نگرفته است؟

۱ - توسل به منبع موثق

۲ - مثال

۳ - مقایسه

۴ - توصیف بر اساس ترتیب وقوع حوادث

گزینه صحیح این سوال گزینه ۴ می باشد

۲۱۹- کدام محل در متن که با اعداد {۱} {۲} {۳} {۴} مشخص شدهاند، بهترین محل

برای قرار گرفتن جمله زیر است؟

«مسئله یادگیری به همین سادگی‌ها هم که بعضی‌ها فکر میکنند، نیست.»

۱ - ۱

۲ - ۲

۳ - ۳

۴ - ۴

گزینه صحیح این سوال گزینه ۴ می‌باشد

۲۲۰- برخی از روانشناسان معتقدند از آنجایی که هوش هیجانی (EQ) را نمیتوان از طریق آزمونهای روانسنجی مثل انواع تست هوش عمومی مورد ارزیابی قرار داد، این مفهوم فاقد قدرت توضیحی واقعی است. اما برادبری و گریوز توانستند با طرح پرسشنامه‌ای، این مشکل را حل کنند و توانایی ارزیابی آن را نیز به دست آورند. کدام مورد زیر، برای ارزیابی درستی ادعای برادبری و گریوز، از بقیه مهمتر است؟

۱ - آیا پرسشنامه مورد استفاده آنها، از روایی و پایایی الزم برخوردار بوده است؟

۲ - آیا اثبات وجود سازه‌ای به نام هوش هیجانی، در امور مربوط به سلامت روان انسان تأثیرگذار است

۳ - آیا هوش هیجانی متغیری صرفاً روحی-روانی است یا مناسبات اجتماعی هم در ایجاد و رشد آن دخیل هستند؟

۴ - آیا این دو محقق، با انواع آزمونهای روانسنجی آشنایی کافی داشته‌اند؟

گزینه صحیح این سوال گزینه ۱ می‌باشد

۲۲۱- تعداد دانش‌آموزان مقطع متوسطه این شهرستان در سال آینده نسبت به امسال، ۳۰۰ نفر بیشتر می‌شود، اگر تعداد دانش‌آموزان مقطع متوسطه اول، رشد ۲۵ درصدی شاهد باشد، برای آنکه متوسط تعداد دانش‌آموزان کلاس‌ها در سال آینده تغییر نکند، به چند کلاس نیاز است؟

۱ - ۱

۲ - ۲

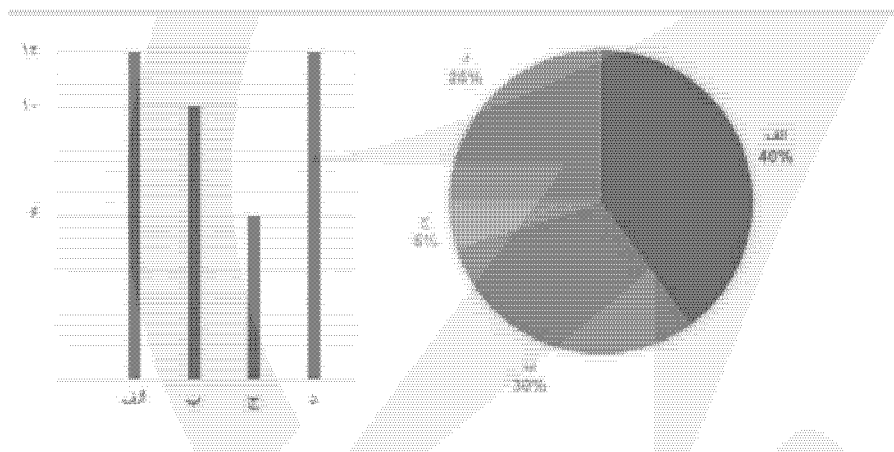
۱۰ - ۳

۴ - ۴

گزینه صحیح این سوال گزینه ۲ می باشد

۲۲۲- با توجه به اطلاعات و نمودارهای زیر، به سؤال های ۹۹ و ۱۰۰ پاسخ دهید.

یک شهرستان، دارای ۴ مدرسه (الف)، (ب)، (ج) و (د) در مقطع متوسطه اول است. نمودار شماره ۱، درصد تعداد دانش آموزان هر مدرسه را از مجموع دانش آموزان مقطع متوسطه اول آن شهرستان و نمودار شماره ۲، تعداد کلاس های هر مدرسه را نشان میدهد.



در مدرسه (ج)، ۶۰ دانش آموز تحصیل می کنند. به طور متوسط، در هر کلاس مدرسه (ب)، چند دانش آموز تحصیل میکنند؟

۴۸ - ۱

۳۶ - ۲

۳۸ - ۳

۴ - ۴

گزینه صحیح این سوال گزینه ۲ می باشد

۲۲۳- دانش آموزان درس زیست شناسی در دبیرستان که تنها از طریق شبیه سازی مبتنی

بر دیسکت های

نمایشی درباره تشریح قورباغه آموزش دیده بودند. با کسانی که این تشریح را به گونه

دستی و بدون کاربرد

دیسکت انجام دادند، در آزمون تشخیص کالبدشناختی قورباغه تفاوت معناداری نداشتند.

این مطلب نشان

میدهد دستکم یادگیری برخی اطلاعات از طریق شبیه سازی میتواند به اندازه یادگی ریا

طریق تجربه

های عینی و دستی مؤثر باشد و شاید مهمتر از آن بتوان گفت گروهی که از شبیه سازی به

منظور آمادگی

برای تشریح واقعی استفاده کردند، عملکرد معنادارتری نسبت به گروهی به دست آوردند که

تنها به تشریح

عینی پرداختند.

کدام مورد زیر را می توان به درستی، از متن استنباط کرد؟

۱ - استفاده از شبیه سازی در کالبدشناختی قورباغه، در رغبت و انگیزه دانش آموزان در

انجام عملی آن، تأثیرگذار است

۲ - استفاده از دیسکت های نمایشی برای آموزش مفاهیم زیست شناختی، مستلزم سواد

تکنولوژیکی خاصی است که بهتر است از قبل فراهم گردد.

۳ - در تشخیص کالبدشناختی قورباغه در شرایطی که دسترسی به ابزارهای شبیه سازی

وجود ندارد، آموزش تئوریک باید مقدم بر تجربه عینی در این زمینه باشد.

۴ - در آموزش کالبد شناختی قورباغه، استفاده ترکیبی از شبیه سازی و انجام عملی، امری

شدنی و بهتر از روند تکرش است

گزینه صحیح این سوال گزینه ۴ می باشد

۲۲۴ - تفکر نقادانه یعنی توانایی تصمیم گیری و حل مشکلات بر مبنای استدلال و شواهد

منطقی و کنار گذاشتن احساسات در تصمیم گیری ها. در ظاهر امر به نظر می آید این کار

بسیار آسان باشد، اما واقعیت این است که اغلب افراد توانایی به کارگیری حسن روشی در

تصمیم گیری های خود را ندارند نکته جالب

اینجاست که این مشکل در همان سنین مدرسه شروع می شود. در مدرسه از دانش آموزان

برای یاد گرفتن

مطالب، آزمون گرفته می شود. اما برای استفاده از این مطالب در موقعیتهای مختلف در زندگی

.....کدام مورد جای خالی در متن را به منطقی ترین وجه کامل میکند؟

۱ - گلایه های شنیده نمیشود.

۲ - دیگر کسی کنارشان نیست.

۳ - راهی وجود ندارد.

۴ - هیچ آزمونی وجود ندارد.

گزینه صحیح این سوال گزینه ۴ می باشد

۲۲۵ - در روستاهای یک استان، یا در هر روستا یک کلاس ۷ نفری به همراه یک معلم دایر است یا یک کلاس ۹ نفری به همراه یک معلم. اگر هیچ معلمی در دو روستا درس ندهد و مجموع تعداد دانش آموزان و معلم های روستاهای این استان ۱۲۴ نفر باشد. در این استان حداکثر چند روستا وجود دارد؟

۱ - ۱۶

۲ - ۱۳

۳ - ۱۴

۴ - ۱۵

گزینه صحیح این سوال گزینه ۴ می باشد

۲۲۶ - از آنجایی که سرماخوردگی و آنفلوانزا در زمستان به مراتب از فصول دیگر سال به ویژه در فصول گرم بیشتر است. بهتر است برای اینکه میزان سرما خوردگی به ویژه نزد کودکان در دبستان ها را کم کنیم این محیطها را همیشه گرم نگه داریم و تماس بچه ها با سرما را هرچه بیشتر کاهش دهیم. کدام مورد در صورتی که صحیح فرض شود توصیه به عمل آمده در متن را به بهترین شکل تضعیف میکند؟

۱ - بیماری سرماخوردگی در فصول گرم سال هم، یک بیماری نایاب نیست.

۲ - برخی تحقیقات که درباره تأثیر گرما بر قدرت بیماری های ویروس های سرماخوردگی انجام شده است به نتایج مشخصی نرسیده اند.

۳ - در فصل سرما مردم بیشتر کنار هم هستند و لذا امکان سرایت ویروس سرماخوردگی هم زیادتر است.

۴ - امکان ابتال به سرماخوردگی در فصول مختلف سال، به یک اندازه نیست.

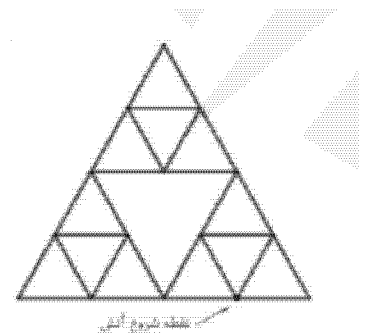
گزینه صحیح این سوال گزینه ۱ می باشد

۲۲۷- اگر C به رتبه استادیار معلم رسیده باشد رتبه چند نفر از پنج نفر دیگر به طور قطع مشخص می شود؟

- ۱ - ۱
- ۵ - ۲
- ۳ - ۳
- ۲ - ۴

گزینه صحیح این سوال گزینه ۱ می باشد

۲۲۸- الگوی زیر، با نخی که سرعت سوختن آن ۰.۰۵ سانتی متر بر ثانیه است، ساخته شده است. اگر طول ضلع بزرگترین مثلث ۲۰ سانتی متر باشد و الگو را از نقطه مشخص شده آتش بزنیم، چند ثانیه طول می کشد که لک الگو بسوزد؟



- ۶۰ - ۱
- ۴۰ - ۲
- ۴۵ - ۳
- ۵۰ - ۴

گزینه صحیح این سوال گزینه ۴ می باشد

۲۲۹- اگر از لحاظ امتیازات، ?? نفر چهارم شده باشد، چه کسی از لحاظ امتیازات نفر پنجم شده است؟

- ۱ - ?? نمی تواند نفر چهارم شده باشد.
- ۲ - ??
- ۳ - CC

۲۳۰- در کل مدارس ابتدایی روستایی یک استان، به ازای هر ۷ دانش آموز پسر، ۱۱ دانش آموز دختر و به ازای هر ۱۴ دانش آموز، ۳ معلم وجود دارند، اگر تعداد معلم های زن، ۲ برابر معلم های مرد باشد. اختلاف تعداد دانش آموزان دختر و معلم های زن حداقل کدام می تواند باشد؟

الف) ۷۱ ب) ۴۳ ج) ۴۷ د) ۵۹

۱ - ۷۱

۲ - ۴۳

۳ - ۴۷

۴ - ۵۹

گزینه صحیح این سوال گزینه ۴ می باشد

۲۳۱- اگر?? به رتبه استادیار معلم رسیده باشد، کدام مورد زیر، لزوماً صحیح است؟

۱ - ?? به رتبه مربی رسیده است.

۲ - ?? در کسب امتیاز، نفر چهارم شده است.

۳ - ?? در کسب امتیاز، نفر اول شده است.

۴ - A به رتبه مربی رسیده است.

گزینه صحیح این سوال گزینه ۴ می باشد

۲۳۲- تعداد کارمندان اداره آموزش و پرورش در تهران در هر کدام از سال های اول، سوم و چهارم، به علت استخدام جدید، ۲۰ درصد افزایش و در هر کدام از سال های دوم و پنجم به علت بازنشسته شدن همکاران با سابقه ۲۵، درصد کاهش یافته است. اگر در مجموع این ۵ سال، تعداد کارمندان این اداره ۳۵ نفر کم شده باشد در سال اول چند نفر استخدام جدید شده اند؟

۱ - ۲۵۰

۲ - ۷۵

۳ - ۱۲۰

۴ - ۱۲۵

گزینه صحیح این سوال گزینه ۱ می باشد

۲۳۳- اگر امتیازات?? کمتر از امتیازات?? باشد،?? از لحاظ امتیازی نفر چندم شده است؟

۱ - پنجم

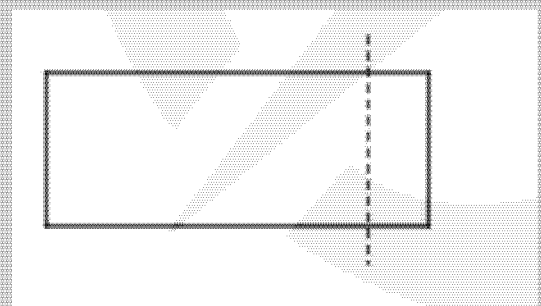
۲ - دوم

۳ - سوم

۴ - چهارم

گزینه صحیح این سوال گزینه ۲ می باشد

۲۳۴- از یک مقوای مستقل شکل به نسبت اضلاع ۲ به ۵ ، با یک برش یک مستطیل کوچک باز هم به نسبت اضلاع ۲ به ۵ (مطابق شکل زیر) جدا میکنیم. با این فرایند، چند درصد از مساحت مقوای اولیه جدا می شود؟



۱ - ۱۴

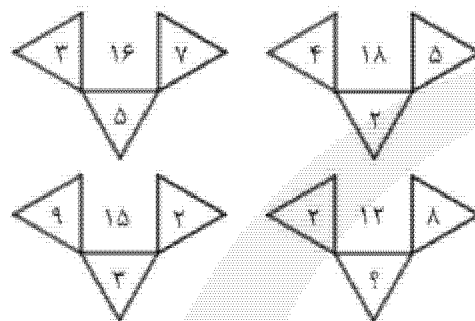
۲ - ۲۰

۳ - ۱۶

۴ - ۱۵

گزینه صحیح این سوال گزینه ۳ می باشد

۲۳۵- در هر کدام از اشکال زیر، بین اعداد ارتباط خاص و یکسانی برقرار است. به جای
عالمت سؤال، کدام عدد باید قرار بگیرد؟



۸ - ۱

۴ - ۲

۶ - ۳

۷ - ۴

گزینه صحیح این سوال گزینه ۲ می باشد